

D.A.V. INSTITUTIONS, WEST BENGAL ZONE
PERIODIC TEST -2/ HALF YEARLY EXAMINATION
SESSION: 2023 – 2024

Class: III

Subject: Mathematics

Maximum Marks: 80

Time: 2 Hours 30 Minutes

General Instructions: -

1. *The question paper contains a total number of 2 pages and 29 questions.*
2. *Question No. 1 to 8 are of 1 mark each.*
3. *Question No. 9 to 14 are of 2 marks each.*
4. *Question No. 15 to 19 are of 3 marks each.*
5. *Question No. 20 to 24 are of 4 marks each.*
6. *Question No. 25 to 29 are of 5 marks each.*

1. Write the predecessor of 8750. (1)
2. One more than 7089 = _____. (1)
3. $17 - \underline{\hspace{1cm}} = 24 - 10$ (1)
4. The 9th month of the year is _____. (1)
5. Write the date 14th November 1975 in short form. (1)
6. The number to be divided is called _____. (1)
7. _____ $\times 1 = 250$ (1)
8. Write the time quarter to 3 in numbers. (1)
9. Form the greatest four-digit number using the digits 7, 1, 5, 0 only once. (2)
Also write the number name of that number.
10. Find the difference between 7193 and 9312. (2)
11. Find the product: 58×25 . (2)
12. Write two division facts for $7 \times 6 = 42$. (2)
13. Convert 7 hours into minutes. (2)
14. Draw a clock and show the time 10 minutes to 9. (2)
15. Write the expanded form of 1469 in two different ways. (3)
16. Subtract and check your answer: $5793 - 4399$ (3)
17. Find the product: 315×12 . (3)
18. Divide by repeated subtraction method: $15 \div 3$ (3)
19. $36 \div 9 = 4$ (3)

Write the dividend, divisor and quotient from this division fact.

20. (a) Represent the number 6501 on the abacus. (4)
(b) complete the pattern:
6100, 5900, 5700, _____, _____.
21. Arrange in columns and add the numbers: 7502, 2430, 168 (4)
22. Divide and find the quotient and the remainder: $435 \div 7$ (4)
23. Convert into minutes: 15 hours 35 minutes. (4)
24. Soham reached the bus stop at 7:55 a.m. and he missed the bus. He was 15 minutes late. Find out at what time did the bus reach the bus stop? (4)
25. In a garden there are 235 roses, 1642 marigolds and 3417 lilies. How many flowers are there in the garden? (5)
26. Ruhi bought 4635 sheets of paper. She used 2790 sheets. How many sheets are left with her? (5)
27. For Independence Day 234 sets of coloured balloons were sent up in the air. If each set had 21 balloons, how many balloons were there in the air? (5)
28. A fruit seller bought 238 mangoes. He kept them equally in 7 boxes. How many mangoes did he keep in each box? (5)
29. In a school, there are 480 students. Each student of the school is donating ₹ 75 to build a hostel for the blind students. (5)
a) How much money have they all collected together?
b) Which value is reflected by the students?

D.A.V. INSTITUTIONS, WEST BENGAL ZONE
PERIODIC TEST -2/ HALFYEARLY EXAMINATION
SESSION: 2023 – 2024

Class: III
Subject: Hindi

Maximum Marks: 80
Time: 2 Hours 30 Minutes

विशेष निर्देश :

- प्रश्न पत्र दो खण्डों, खंड- अ और ब में विभक्त है और 6 पृष्ठ में कुल 19 प्रश्न हैं।
- दोनों खंड अनिवार्य हैं।
- उत्तर पुस्तिका में उत्तर के साथ वही क्रम संख्या लिखिए, जो प्रश्न पत्र में दी गयी है।

खंड-अ

1. निम्नलिखित अपठित गद्यांश को पढ़कर पूछे गए प्रश्नों के उत्तर लिखिए:-

2×5=10

एक गधा जंगल में घास चर रहा था। जंगल के किनारे पर ही उसके मालिक माधव का घर था। वह रोज़ जंगल में आकर घास खाता और चला जाता। जंगल की हरी-हरी घास खाकर उसे बड़ा ही मज़ा आता था। उसे वहाँ कभी भी कोई खतरा महसूस नहीं हुआ। मगर एक दिन अचानक ही उसे पास की झाड़ियों में सरसराहट सुनाई दी। उसने सिर उठाकर देखा तो उसके प्राण सूख गए। झाड़ियों से निकलकर एक बाघ उसके सामने आ खड़ा हुआ था। गधे ने सोचा कि आज तो मारे गए। मगर आदमियों की संगत में रहकर वह भी बहुत चालाक हो गया था। उसने डरना छोड़ा और लंगड़ा-लंगड़ाकर चलने लगा। निडर और अनोखी चालवाले जीव को देखकर बाघ वहीं रुक गया। वह सोचने लगा गधे की तरह दिखने वाला यह जीव कौन है, जो उससे भी नहीं डर रहा है। बाघ इस अनोखे जीव को देखकर भय से वापस चला गया। गधा अपने बुद्धि और साहस के कारण अपने घर वापस लौट सका।

(क) गधा जंगल में क्या कर रहा था?

(ख) जंगल के किनारे किसका घर था?

(ग) अचानक ही एक दिन गधे के सामने कौन आ खड़ा हुआ?

(घ) गधा चालाक कैसे बना था?

(ड) बाघ क्या सोचकर वापस चला गया?

2. निम्नलिखित शब्दों के सही संबंध वाले विकल्प छाँटकर लिखिए:-

1×3=3

(क) आलसी : मेहनती :: सरदी : ?

(i) ठंडा (ii) गरमी (iii) बरसात (iv) सरद

(ख) स्त : बस्ता :: प्य : ?

(i) पल (ii) प्यासा (iii) पथ (iv) सस्ता

(ग) सींचना : सिंचाई :: पोतना : ?

(i) खुदाई (ii) पिसाई (iii) पुताई (iv) लिपाई

3. निम्नलिखित प्रश्नों के उत्तर सही विकल्प छाँटकर लिखिए:-

1×2=2

(क) “आदमी को वहाँ जल्दी जाना था।” इस वाक्य में संज्ञा शब्द क्या है?

(i) आदमी (ii) वहाँ (iii) जाना (iv) जल्दी

(ख) “लड़की कहानी की किताब पढ़ रही है।”- इस पंक्ति में क्रिया शब्द क्या है?

(i) लड़की (ii) पढ़ रही है (iii) किताब (iv) कहानी

4. निम्नलिखित कथनों को पढ़कर सही विकल्प छाँटकर लिखिए:-

1×3=3

(क) अभिकथन:- ‘गँवार’ शब्द का अर्थ ‘अनपढ़’ होता है।

तर्क:- समान अर्थ वाले शब्द से क्रिया शब्द का बोध होता है।

(i) अभिकथन और तर्क दोनों सही हैं, क्योंकि तर्क अभिकथन की सही व्याख्या करता है।

(ii) अभिकथन और तर्क दोनों सही हैं, पर तर्क अभिकथन की सही व्याख्या नहीं करता है।

(iii) अभिकथन सही है, परंतु तर्क ग़लत है।

(iv) अभिकथन ग़लत है, परंतु तर्क सही है।

(ख) अभिकथन :- किसी शब्द में एक वर्ण आधा और दूसरा वर्ण पूरा हो,
तो वह शब्द संयुक्त अक्षर वाला शब्द कहलाता है।

तर्क :- ‘दोस्त’ संयुक्त अक्षर वाला शब्द है।

(i) अभिकथन और तर्क दोनों सही हैं, क्योंकि तर्क अभिकथन की सही व्याख्या करता है।

(ii) अभिकथन और तर्क दोनों सही हैं, पर तर्क अभिकथन की सही व्याख्या नहीं करता है।

(iii) अभिकथन सही है, परंतु तर्क ग़लत है।

(iv) अभिकथन ग़लत है, परंतु तर्क सही है।

(ग) अभिकथन:- 'पंडित' शब्द का स्त्रीलिंग 'पंडिताइन' होता है।

तर्क:- दोनों शब्द एक दूसरे का विलोम हैं ।

(i) अभिकथन और तर्क दोनों सही हैं, क्योंकि तर्क अभिकथन की सही व्याख्या करता है।

(ii) अभिकथन और तर्क दोनों सही हैं, पर तर्क अभिकथन की सही व्याख्या नहीं करता है।

(iii) अभिकथन सही है, परंतु तर्क ग़लत है।

(iv) अभिकथन ग़लत है, परंतु तर्क सही है।

5. दिए गए खाली स्थानों को सही शब्द चुनकर पूरा कीजिए:-

1×2=2


(क) गाँव के बीच से एक ----- बहती थी। (नदी/नाला)

(ख) लालू ने दीपक की ----- खींची। (रज़ाई/चादर)

6. निम्नलिखित चित्रों को पहचानकर उनके बहुवचन रूप लिखिए:-

1×2=2

(क)



(ख)



7. स्तंभ (क) वाले शब्द को स्तंभ (ख) वाले उचित शब्द से मिलाकर लिखिए:-

1×2=2

स्तंभ (क)	स्तंभ (ख)
(i) जंगल	(अ) वायु
(ii) हवा	(आ) वन

8. निम्नलिखित कथनों को पढ़कर सही या ग़लत लिखिए:-

1×2=2

(क) 'स्नान' शब्द का अर्थ 'नहाना' भी होता है।

(ख) 'जंगल' शब्द का समान लय वाला शब्द 'मगन' है।

9. निम्नलिखित शब्दों के समान लय वाले शब्द लिखिए:-

1×2=2

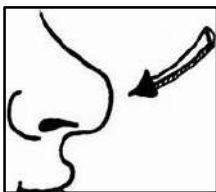
(क) घड़ा

(ख) पढ़ाई

10. निम्नलिखित चित्रों को पहचानकर उचित मुहावरे लिखिए:-

1×2=2

(क)



(ख)



11. निम्नलिखित गद्यांश को पढ़कर पूछे गए प्रश्नों के उत्तर सही विकल्प

चुनकर लिखिए:-

1×5=5

चोर ने दीपक और लालू को आते देखा तो वह घबरा गया। वह दौड़कर झट से घर के सामने एक पेड़ पर चढ़ गया। इतनी देर में दीपक की अम्मा और पिता जी भी दौड़ते हुए वहाँ आ पहुँचे। शोर सुनकर दीपक के पड़ोसी पुलिस वालों को अपने साथ ले आए। पुलिस वालों ने चोर को नीचे उतरवाया। उससे पोटली लेकर दीपक के पिता जी को वापस की।

(क) चोर ने किसे आते देखा?

- (i) दीपक के भाई को (ii) दीपक और लालू को
(iii) दीपक के दोस्त को (iv) पड़ोसियों को

(ख) चोर ने घबराकर क्या किया?

- (i) भाग गया (ii) छिप गया
(iii) पोटली फेंक दिया (iv) पेड़ पर चढ़ गया

(ग) शोर सुनकर कौन आए?

- (i) माता-पिता (ii) पड़ोसी
(iii) माता-पिता और पड़ोसी (iv) पड़ोसी और पुलिस

(घ) चोर से पोटली लेकर किसे वापस की गई?

- (i) दीपक को (ii) दीपक के पिता जी को
(iii) दीपक और लालू को (iv) पड़ोसियों को

(ङ) चोर को पेड़ से नीचे किसने उतरवाया?

- (i) पुलिस वालों ने (ii) दीपक और लालू ने
(iii) अम्मा और पिता जी ने (iv) दीपक ने

12. निम्नलिखित प्रश्नों के उत्तर सही विकल्प चुनकर लिखिए:-

1×5=5

(क) कौवा घड़े में क्या फेंकने लगा?

- (i) पत्थर (ii) कंकड़ (iii) पत्ता (iv) पानी

(ख) कौवे को सफलता कैसे मिली?

- (i) बुद्धि से (ii) बल से
(iii) अक्ल और मेहनत से (iv) शांति से

(ग) 'अगर पेड़ भी चलते होते' कविता के आधार पर भूख लगने पर आप क्या करते हैं?

- (i) मधुर फल तोड़कर खाते (ii) पेड़ के ऊपर सो जाते
(iii) पेड़ पर चढ़ जाते (iv) पेड़ के नीचे छिप जाते

(घ) 'निज' शब्द का क्या अर्थ है?

- (i) नीचे (ii) नीर (iii) अपना (iv) आपने

(ङ) 'अगर पेड़ भी चलते होते' कविता के आधार पर आप पेड़ के ऊपर कब चढ़ जाते हैं?

- (i) भूख लगने पर (ii) धूप सताने पर
(iii) कीचड़-बाढ़ आने पर (iv) बाढ़ आने पर

खंड-ब

13. निम्नलिखित प्रश्नों के उत्तर (15-20 शब्दों में) लिखिए:-

2×3=6

- (क) लालू ने दीपक को क्यों जगाया?
(ख) शेर को गुस्सा क्यों आया?
(ग) पेड़ के नीचे हम कब-कब छिप सकते हैं?

14. निम्नलिखित प्रश्नों के उत्तर (20-25 शब्दों में) लिखिए:-

3×2=6

- (क) मस्जिद से अज्ञान की आवाज़ नहीं आने पर सोनाली को क्यों चिंता होने लगी?
(ख) हमें अधिक से अधिक पेड़ क्यों लगाने चाहिए?

15. निम्नलिखित प्रश्नों के उत्तर (35-40 शब्दों में) लिखिए:-

4×2=8

- (क) रोहित बहुत ज़िद्दी लड़का था। वह बिना बात के झगड़ा भी करता था। अगर आपसे कोई बिना बात के ही झगड़ा करे तो आपको कैसा लगेगा और आप उस समय क्या करेंगे?
(ख) 'चतुर कौवा' कविता में कौवे ने परिश्रम और बुद्धिमानी के बल पर सफलता पाई। आप अपने जीवन में सफलता प्राप्त करने के लिए क्या-क्या करेंगे?

खंड-घ

5

16. निम्नलिखित विषयों में से किसी एक विषय पर (60 शब्दों में) अनुच्छेद लिखिए:-

- (क) पेड़ों का महत्त्व (ख) आपका प्रिय त्योहार (ग) पुस्तकालय

17. अपनी परीक्षा की तैयारी के बारे में बताते हुए पिताजी को (80 शब्दों में) पत्र लिखिए। 5

अथवा

अपने जन्मदिन पर बुलाने के लिए मित्र को (80 शब्दों में) पत्र लिखिए।

18. बहुत दिनों के बाद मिले दो दोस्तों / सहेलियों के बीच हुई बातचीत को संवाद के रूप में (50 शब्दों में) लिखिए। 5

अथवा

दुर्गापूजा मनाने के विषय में चर्चा करते हुए अपने दादाजी के साथ हुई बातचीत को संवाद के रूप में (50 शब्दों में) लिखिए।

19. प्रस्तुत चित्र का वर्णन (60 शब्दों में) कीजिए। 5



D.A.V. INSTITUTIONS, WEST BENGAL ZONE
PERIODIC TEST-2/ HALF YEARLY EXAMINATION
SESSION 2023-2024

Class: III

Subject: Bengali

Maximum Marks: 80

Time: 2 Hours 30 Minutes

নির্দেশিকা: ক) এই প্রশ্নপত্রে মোট ৪ টি বিভাগ আছে ও মোট ১৫ টি প্রশ্ন আছে।

খ) এই প্রশ্নপত্রে মোট ৪ টি পৃষ্ঠা আছে।

বিভাগ – ক

1. নীচের অনুচ্ছেদটি পড়ে প্রশ্নগুলির উত্তর লেখ –

(1×10=10)

আমি ছোটবেলায় পশুপাখি পুষতে বড়ো ভালোবাসতাম। পুঁপুনি এমন জন্তু নেই। টুনটুনি, বুলবুলি, দোয়েল, ছাতারে, শালিখ, টিয়া-ও সকল তো পুষেছি, পিঁপড়েও পুষতাম। পিঁপড়ে ও ফড়িং পোষা আমার একটা বাতিক ছিল। তাদেরকে অতি যত্নে কৌটোর মধ্যে রাখতাম। ফড়িংদের কচি কচি দূর্বা ঘাস খাওয়াতাম, পিঁপড়েদের চিনি, মধু ইত্যাদি খেতে দিতাম। পিঁপড়েদের চাল-চলন দেখতে এতই ভালো লাগত যে, আমি যখন ছয়-সাত বছরের ছেলে তখনও পিঁপড়ে হয়ে চার হাত-পায়ে পিঁপড়েদের সঙ্গে ঘুরতাম। মাছি মেরে ঝাঁটার কাঠির আগায় লাগিয়ে সেই মাছি আবার মাটিতে পুঁতে দিতাম, কখন পিঁপড়ে এসে মাছি ধরে টানাটানি করবে এই অপেক্ষায় বসে থাকতাম।

ক) লেখক ছোটবেলায় কী করতে ভালোবাসতেন ?

খ) লেখক কী কী পাখি পুষেছেন ?

গ) লেখকের পাখি ছাড়া আর কোন্ কোন্ প্রাণী পোষার বাতিক ছিল ?

ঘ) ফড়িংদের লেখক কী খাওয়াতেন ?

ঙ) কতো বছর বয়সে লেখক পিঁপড়েদের মতো চলতেন ?

চ) মাছি মেরে কীসের আগায় লাগাতেন ?

ছ) মাছি মারার পর লেখক কীসের জন্য অপেক্ষা করতেন ?

জ) লেখক পিঁপড়েদের কী খাওয়াতেন ?

ঝ) বিপরীত শব্দ লেখ - ভালো

ঞ) বাক্য রচনা কর - ফড়িং

বিভাগ - খ

2. অনুচ্ছেদ রচনা কর - 'শরৎকাল' অথবা 'বিড়াল' (5×1=5)
3. নীচের চিত্রটি দেখে পাঁচটি বাক্য লেখ - (5×1=5)



বিভাগ - গ

4. ক) নির্দেশ অনুসারে উত্তর দাও - (1×5=5)
- i) ঠিক/ভুল লেখ: 'নীলকর' শব্দটিতে পাঁচটি ধ্বনি আছে।
- ii) বিভক্তি যুক্ত করে পদে পরিণত করো : দোয়েল + অ।
- খ) উদ্দেশ্য-বিধেয় নির্ণয় কর -
- i) বিমল ভালো ছেলে।
- ii) ময়ূর পেখম মেলে নাচে।
- iii) ছাত্ররা বিদ্যালয়ে একত্রিত হয়ে প্রার্থনা করছে।
5. ক) রেখাঙ্কিত পদগুলি কোনটি কী পদ নির্ণয় কর - (1×5=5)
- i) মেঘের গুড়ু-গুড়ু শব্দ শুনে রাত্রে ঘুম ভেঙে গেল।
- ii) তুমি কাল বিদ্যালয় যাবে না ?
- iii) সরলা তাড়াতাড়ি কাজটি শেষ করল।
- খ) বন্ধনী থেকে সঠিক পদ বেছে শূন্যস্থান পূরণ কর -
- i) যে পদের কোনো পরিবর্তন হয় না তাকে _____ পদ বলে।
(অব্যয়/ ক্রিয়া)
- ii) _____ ছাড়া কোনো বাক্য গঠিত হতে পারে না। (ক্রিয়াপদ / সর্বনাম)

6. প্রদত্ত শব্দজোড়গুলির মধ্যে থেকে সঠিক বিপরীত অর্থবোধক শব্দজোড়টি নির্বাচন করে লেখ - (1×5=5)

- ক) জয়-বিজয় / হাসি-ভাটা / ধনী-দরিদ্র
খ) নতুন-নবীন / আয়-ব্যয় / আসল-দান
গ) বন্ধন-মুক্তি / আগে-সোজা / পূর্ব-দক্ষিণ
ঘ) পশ্চিম-উত্তর / নিন্দা-প্রশংসা / আলো-মিত্র
ঙ) আরম্ভ-শেষ / দোষ-অধম / জমা-ক্ষতি

7. বামদিকের সাথে ডানদিক মিলিয়ে লেখ - (1×5=5)

বামদিক	ডানদিক
ক) যা করা উচিত	i) অজ্ঞাত
খ) যা পান করা যায়	ii) আন্তিক
গ) যে ঈশ্বরে বিশ্বাস রাখে	iii) কর্তব্য
ঘ) যা জানা যায় না	iv) বনজ
ঙ) যা বনে জন্মেছে	v) পেয়

বিভাগ - ঘ

8. অর্থ লেখ - ক) চন্ডির খ) দাদুরি গ) উদরস্থ (1×3=3)
9. বিপরীত শব্দ লেখ - ক) জল খ) সকাল গ) মানুষ (1×3=3)
10. সঠিক উত্তরটি নির্বাচন করে লেখ - (1×5=5)

- ক) জোড়াসাঁকোর বাড়িটি ছিল (দোতলা / তেতলা / চারতলা)।
খ) আবদুল মাঝির দাড়ি ছিল (কামানো / নেড়া / ছুঁচলো)।
গ) নেকড়ে মাকড়সা সাধারণত ডিম পাড়ে (১৫-১৬ / ২০-২১ / ৮-৯) টি।
ঘ) জোর কাঠিতে ঢাক বাজছে (বাগান বাড়িতে / পুজো বাড়িতে / বিয়ে বাড়িতে)।
ঙ) ‘পারিব না’ কবিতার কবি (কালীপ্রসন্ন ঘোষ / কালীপ্রসন্ন সিংহ / কালী দাস)।

11. একটি বাক্যে উত্তর দাও - (1×4=4)

- ক) আবদুল বাঘটাকে দিয়ে কতটা পথ গুণ টানিয়েছিল ?
খ) বর্ষার দিনে কাদের পুকুর ভেসে মাছ পালিয়েছে ?
গ) চোর মাকড়সা ক্ষুদ্রে পিঁপড়ের মুখ থেকে কী চুরি করে ?
ঘ) নেকড়ে মাকড়সারা কখন শিকার করে ?

12. বাক্যগুলি পড়ে সত্য / মিথ্যা লেখ - (1×5=5)

- ক) আদর্শ ছেলে কাজে না বড়ো হয়ে কথায় বড়ো হবে।
খ) সকাল বেলা পড়ার আদর্শ সময়।
গ) একবার না পারলে সে কাজ ছেড়ে দেওয়া উচিত।

ঘ) রাত পোহালে ফর্সা হয়।

ঙ) কৃষকের শিশু ও রাজার কুমার উভয়েরই কাজ আছে।

13. শূন্যস্থান পূরণ কর -

(1×5=5)

ক) আমাদের দেশে সর্বত্রই _____ রঙের একপ্রকার ক্ষুদে পিঁপড়ে দেখা যায়।

খ) _____ গাড়িতে ব্যাঙের ছাতার নীচে বসে ব্যাঙের বড়ো বাবুরা সরকারি কাজে যাচ্ছেন।

গ) একদিন চন্ডির মাসের শেষে ডিঙিতে মাছ ধরতে গিয়েছে, হঠাৎ এল _____।

ঘ) এদের শিকার ধরবার কৌশল অতি _____।

ঙ) হাঁটিতে শিখে না কেহ, না পড়ি _____।

14. ‘আদর্শ ছেলে’ কবিতাটি কবির নাম সহ প্রথম চার লাইন মুখস্থ লেখ।

(1+4=5)

15. নীচের প্রশ্নগুলির যথাযথ উত্তর দাও -

(2×5=10)

ক) আবদুল মাঝি কে ? সে দাদাকে কী কী এনে দিত ?

খ) বর্ষার দিনে পুকুর গুলোর অবস্থা কেমন হয় ?

গ) নেকড়ে-মাকড়সা দেখতে কেমন ? কীভাবে এরা শিকার করে ?

ঘ) ‘পার কী না পার করো পরখ তাহার’- কোন্ কবিতার অংশ ? কবি এখানে কী পরখ করার কথা বলেছেন ?

ঙ) প্রভাত হলে কুমারী মেয়েরা কীভাবে ফুল তুলতে যায় ?

D.A.V. INSTITUTIONS, WEST BENGAL ZONE
PERIODIC TEST-2/ HALF YEARLY EXAMINATION
SESSION 2023-2024

Class: III

Maximum Marks: 80

Subject: English

Time: 2 Hours 30 Minutes

General Instructions:

- *This question paper contains 12 questions and 4 printed pages.*
- *All questions are compulsory.*

SECTION A: READING (10 MARKS)

1. A. Read the passage carefully and answer the following questions:

One sunny day, a little puppy named Max got lost while playing in the park. He looked around but couldn't find his owner. Max was scared and didn't know what to do. Suddenly, he heard a kind voice calling his name. It was a little girl named Maya. Maya had seen Max's owner looking for him and she knew he was lost. She took Max by the collar and led him back to his owner. Max was very happy to be back with his owner. Maya felt proud that she had helped the lost puppy.

- a) What happened to Max while playing in the park? (1)
i) He found a bone ii) He got lost
iii) He fell asleep iv) He made a new friend
- b) Based on your understanding of the above passage, state whether the given statement is True or False:- (1)
'Maya helped Max to find his owner.'
- c) Find out the word from the passage which means – 'afraid'. (1)
- d) How did Maya help the puppy to return to his owner? (2)

B. Read the following passage carefully and answer the questions given below:

A domesticated horse typically lives for 25 to 30 years, which is 10 years less than it did in the wild. The quantity of teeth of a horse can be used to determine its age. By the time they are five years old, they have all of their teeth, and then they simply get longer. Their eyesight is nearly 360 degrees around. Standing behind a horse is risky because they can only see what is directly in front of or behind them. They can kick first and inquire later if they feel something behind them. This also implies that they are unable to see once they are about four feet away from it.

- a) How long does a domesticated horse live? (1)
- b) Why is it risky to stand behind a horse? (1)
- c) The _____ of a horse can be used to determine its age. (1)
- d) Give two facts about the eyesight of the horses. (2)

SECTION B: WRITING (20 MARKS)

- 2. Design a poster on 'Save Trees'. (4)**

3. Look at the picture given below and write a few lines to depict it. (8)



4. Write a short paragraph on 'My favourite cartoon character'. (8)

SECTION C: GRAMMAR (20 MARKS)

5. Choose the correct option for the following. (1×4=4)

- a) The boys will go to school on Wednesday. Which word is a proper noun?
i) boys ii) go
iii) Wednesday iv) school
- b) Which word is supposed to be capitalized among the following options?
i) city ii) new york
iii) state iv) country
- c) Alice was a very curious little girl. What is the common noun used in this sentence?
i) Alice ii) curious
iii) little iv) girl
- d) Virat Kohli is a famous Indian cricketer. The common name used here is ____
i) Virat Kohli ii) famous
iii) Indian iv) cricketer

6. Fill in the blanks with suitable pronouns. (1×4=4)

- a) I have a pet cat. ____ is white in colour.
b) My brother is a teacher. ____ teaches in a high school.
c) Nita and Rita are two sisters. ____ go to school everyday.
d) Namita's mother asked ____ to clean the garbage.

7. Rewrite the following sentences by changing the number of the underlined words: (1×4=4)

- a) My brother likes to read book.
b) Mohan bought a set of knife.
c) He saw the babies crying.
d) We get wool from sheep.

8. Find out the adjectives in the following sentences and state their kinds. (1×4=4)

- a) Mrs. Roy is a kind woman.
- b) He had little milk left in his glass.
- c) The strong wind blew for hours.
- d) There were forty students in the class.

9. Identify the helping verbs and main verbs in the following sentences. (1×4=4)

- a) Gita is a painter.
- b) He has bought a new toy.
- c) You open your shoes and socks.
- d) The children are playing in the park.

SECTION D: LITERATURE (30 MARKS)

10. A. Choose the appropriate answer from the given options: (1×3=3)

- a) The hump is found in the body of a _____.
 - i) camel
 - ii) chimpanzee
 - iii) monkey
 - iv) lion
- b) Molly was very happy with Somu because he _____.
 - i) took good care of her
 - ii) had many friends
 - iii) liked to hear her song
 - iv) liked to dance with her
- c) Statement (A)- Man kills animals.
Statement (B)- Man wants to get leather, oil, medicine or have fun.
 - i) A is true but B is false.
 - ii) Both A and B are false.
 - iii) Both A and B are true and B is the correct explanation of A.
 - iv) Both A and B are true but B is not the correct explanation of A.

B. State whether the following statements are “True” or “False”. (1×3=3)

- a) Somu was taking good care of Molly after getting the new toy gun.
- b) The penguins, strutting round the lake, can understand remarks you make.
- c) Dino used to live on the earth hundreds of years ago.

C. Fill in the blanks with suitable information: (1×4=4)

- a) We should _____ the animals well as they do to us.
- b) Molly could not sing because she was so _____.
- c) Ramesh was _____ years old.
- d) Dinosaur had a _____ body.

D. Write one word answer for the given questions. (1×4=4)

- a) Name the animal that doesn't like laughing at him.
- b) Who gave Ramesh more information about water pollution?
- c) What was the gift Somu got from his father on his birthday?
- d) Which animal did Minu see in the museum?

11. Answer the following questions briefly: (2×6=12)

- a) What does the poet want us to be careful about when we visit the zoo?
- b) “What a dreadful thing” - Describe what the dreadful thing was.
- c) How did Somu’s mother help Molly?
- d) What might happen to a person who drinks dirty water?
- e) How did the dinosaur in the museum look?
- f) What can we do to save the endangered animals? State any two points.

12. Answer the question briefly within 40 – 50 words: (4)

As a sensible boy, Ramesh understood the effects of water pollution and changed his daily routine. Explain as a student what changes can you bring in your daily life to reduce water pollution.

D.A.V. INSTITUTIONS, WEST BENGAL ZONE
PERIODIC TEST -2 / HALF YEARLY EXAMINATION
SESSION: 2023-2024

Class: III

Subject: General Sciences

Maximum Marks: 80

Time: 2 Hours 30 Minutes

General Instructions:

i) This question paper contains 9 questions in three printed pages.

ii) All questions are compulsory.

1. Choose the correct answer from the given options: -

(1×10=10)

- a) We can see a beautiful painting with the help of our-
i) Ears ii) Nose iii) Eyes iv) Skin
- b) Strawberry is an example of-
i) Tree ii) Herb iii) Climber iv) Creeper
- c) They are an important gift of nature-
i) Toys ii) Plants iii) Cars iv) Mobiles
- d) It is a shy animal-
i) Dolphin ii) Horse iii) Orangutan iv) Buffalo
- e) The leaf that helps to protect clothes and other items from insects-
i) Neem ii) Coriander iii) Mustard iv) Spinach
- f) This is not a sense organ-
i) Ears ii) Stomach iii) Tongue iv) Eyes
- g) I can easily learn to perform tricks. Who am I?
i) Goat ii) Cat iii) Whale iv) Dolphin
- h) Efforts need to be made to protect forest from-
i) Fire ii) Rain iii) Air iv) Animals
- i) The leaf which is used as plate for eating food-
i) Neem ii) Mango iii) Banana iv) All of these
- j) It store seeds-
i) Fruit ii) Flower iii) Root iv) Bud

2. Fill in the blanks: -

(1×10=10)

- a) We should do _____ and exercise daily.
- b) Animals living in water are called _____ animals.
- c) Cutting down of trees is called _____.
- d) _____ leaves help to cure cold and cough.
- e) _____ are plants with multiple stems.
- f) We cover our _____ when a bus tyre bursts in front of us.
- g) Desert animals can tolerate _____ temperature.
- h) People who cut trees must be _____.
- i) The common name of fenugreek is _____.
- j) Grape vine is an example of _____.

3. Rewrite the following sentences correctly: - **(1×5=5)**

- a) Lady finger is a climber.
- b) All of us should try to decrease the number of plants and trees.
- c) Lions and tigers like to interact and play with humans.
- d) Cabbage adds aroma to our food.
- e) Clean your ear with a tongue cleaner.

4. Match the following:- **(1×5=5)**

Column A

Column B

- | | |
|---------------|---------------------------------|
| a) Ginger | i) Lives in snow covered region |
| b) Convenient | ii) Medicine |
| c) Tongue | iii) Strong and woody stem |
| d) Penguin | iv) Suited to your comfort |
| e) Tree | v) Sensitive |

5. Define the following: - **(2×3=6)**

- a) Sense organs
- b) Leaf
- c) Purifier

6. Differentiate between(Write one point of difference between each) : - **(2×2=4)**

- a) Cucumber and Money plant
- b) Frog and Turtle

7. Answer the following questions in brief: -

(2×5=10)

- a) i) Identify the sense organ in the given picture.



- ii) State any one role of this sense organ.
- b) Write any two features of herbs.
- c) “Forest can survive without us but we can’t survive without forest.”
What does forest provide to the animals? Name any two animals living in the forest.
- d) We often see pictures and drawings of leaves at many places. Name any four articles where you find the leaf designs.
- e) In which places can we plant trees on the occasion of Van Mahotsav?


8. Answer the following questions: -

(4×5=20)

a) Complete the table-

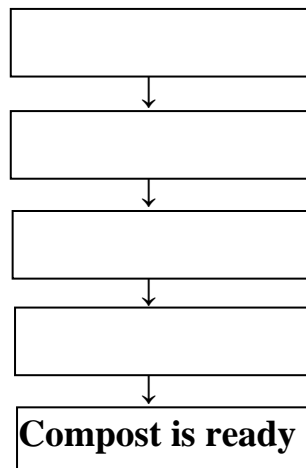
Parts of plants	Functions	Location
1. Root	It (i) _____ the plant in the (ii) _____.	Under the ground.
2. (iii) _____	Carries all the other parts of shoot.	(iv) _____ the ground.
3. Flower	Grows into a (v) _____	Above the ground
4. (vi) _____	Blooms into flower	(vii) _____ the ground.
5. Leaves	(viii) _____	Above the ground.

b) i) Name the animal in the given picture.



ii) Mention three special features which help this animal to live in a desert.

c) Complete the flow chart showing the steps of making compost from fallen leaves-



d) i) What helps the forest animals to protect them from danger?

ii) How are the fins and gills helpful for labeo?

e) Plants provide us various items. Write the name of any four items that we get from plants in the form of a web chart.

9. Answer the following: -

(5×2=10)

a) i) Draw and name the sense organ which helps us to feel.

ii) What type of sound is differentiated by our ears?

b) i) Draw and name any two food items provided by plants.

ii) Name the gas which we get from plants.

D.A.V. INSTITUTIONS, WEST BENGAL ZONE
PERIODIC TEST -2 / HALF YEARLY EXAMINATION
SESSION: 2023-2024

Class: III

Subject: Social Science

Maximum Marks: 80
Time: 2 Hours 30 Minutes

General Instructions:

- All questions are compulsory.
- This question paper contains a total of 24 questions.
- Marks are indicated against each question.

1. Choose the correct option from the given alternatives:

(1×5=5)

- i. Vishu's mother is a trained _____ dancer.
a) Kathakali b) Manipuri c) Kathak d) Garba
- ii. During which festival Modak is made?
a) Ganesh Chaturthi b) Durga Puja c) Onam d) Baisakhi
- iii. The culture and tradition of an area also affect our _____.
a) dress b) lifestyle c) food d) All of these
- iv. The early settlements were made close to _____.
a) rivers b) cities c) roads d) market
- v. The person who designs and makes machines, buildings, houses, roads, bridges etc is an _____.
a) Doctor b) Plumber c) Gardener d) Engineer

2. Fill in the blanks with appropriate word:

(1×5=5)

- i) Members of the family often _____ each other.
- ii) We must eat a _____ diet to remain healthy and happy.
- iii) _____ is worn all over India.
- iv) Early man used _____ for hunting, fishing and digging roots of plants.
- v) _____ is the right of every child.

3. State whether the statement is True/ False:

(1×5=5)

- i) The family where the father and mother live with their children is a joint family.
- ii) All family members have similar voice.
- iii) The biggest discovery of the early man was fire.
- iv) The person who repairs leaking taps is a carpenter.
- v) Dr. A.P.J Abdul Kalam was the 11th President of India.

4. Match the following:

(1×5=5)

Column A	Column B
i. Vishu's grandmother runs	a. begging
ii. Mother's parents	b. Metro Man
iii. Phiran	c. Maternal grandparents
iv. Mr. Sreedharan	d. Kashmir
v. Shukku hated	e. a training centre for poor women

5. Name any two famous personalities of India who followed the same occupation of their parents. (2)
6. Write any two ways to use the left-over food. (2)
7. Mention any two principles of food. (2)
8. Identify the states with the help of the turbans worn by the people in the given pictures. (2)



i.



ii.

9. List the different types of materials used for making dresses. (2)
10. Write any two uses of stones by the early man. (2)
11. State two activities of early man when he became a food producer. (2)
12. Define the term occupation. (2)
13. Name four occupations that require formal training. (2)
14. Name any two awards received by Dr. A.P.J. Abdul Kalam. (2)
15. Mention three important things that make a family. (3)
16. Show any three ways in which the family members resemble one another. (3)
17. Describe the life of the early man when he was a hunter and food gatherer. (3)
18. Illustrate how education and training can help a person in occupation. (3)
19. State any three reasons of child labour in India. (3)
20. Differentiate between a joint family and a nuclear family. Mention any three things that a family do together. (2+3=5)
21. Discuss a situation in which the family members or the neighbours may get confused in identifying twins. List any three issues on which you have disagreement with your siblings. (2+3=5)
22. "It is important to respect all occupations". Justify the statement. (5)
23. Draw the pictures of any two food items that we get from plants and name them. (5)
24. On the political map of India identify, locate and label the following states with proper index: (1×5=5)
 - a. State where Vishu's maternal grandparents live.
 - b. A state famous for dal-batti-churma.
 - c. The state where women wear Mekhla Chadar.
 - d. The state where you live.
 - e. State where Dr. A.P.J Abdul Kalam was born

Q.24

Name _____ Class/Sec _____ RollNo. _____

