

D.A.V. INSTITUTIONS, WEST BENGAL ZONE
PERIODIC TEST -2/ HALF YEARLY EXAMINATION
SESSION: 2024-2025

Class: III

Maximum Marks: 80

Subject: Hindi

Time: 2 Hours 30 Minutes

- प्रश्नपत्र दो खण्डों, खंड-‘अ’ और खंड-‘ब’ में विभक्त हैं, और 5 पृष्ठ में कुल 18 प्रश्न हैं।
- दोनों खंड अनिवार्य हैं।
- उत्तर पुस्तिका में उत्तर के साथ वही क्रम संख्या लिखिए, जो प्रश्न में दी गई है।

खंड- ‘अ’

1. निम्नलिखित अपठित गद्यांश को पढ़कर पूछे गए प्रश्नों के उत्तर लिखिए:- (2×5=10)

एक बार की बात है, सुंदरवन जंगल में गुनगुन गिलहरी अपने पक्षी मित्रों के साथ रहती थी। एक दिन गुनगुन गिलहरी ने अपने पक्षी मित्रों को उदास पाया। उन्हें घोंसला बनाने के लिए सूखी टहनियों की आवश्यकता थी। गुनगुन गिलहरी ने उन्हें ढेर सारी सूखी टहनियों वाली जगह दिखाई। सभी ने मिलकर घोंसला बनाने का काम किया, और जल्द ही प्रत्येक पक्षी के लिए एक-एक आरामदायक घोंसला बन गया। इसके बाद गुनगुन और बाकी पक्षी और भी पक्के मित्र बन गए। वे हर दिन साथ में खेलते और एक-दूसरे की मदद करते। उन्होंने सीखा कि मदद करने से हर किसी को खुशी मिलती है।

(क) गुनगुन गिलहरी कहाँ, और किसके साथ रहती थी?

(ख) गुनगुन गिलहरी ने अपने पक्षी मित्रों को घोंसला बनाने के लिए कौन-सी जगह दिखाई?

(ग) सभी पक्षियों ने मिलकर क्या बनाया?

(घ) पक्के मित्र बनने पर वे क्या-क्या करते थे?

(ङ) गुनगुन गिलहरी और पक्षी मित्रों ने कौन-सी बात सीखी?

2. निम्नलिखित शब्दों के सही संबंध वाले विकल्प छाँटकर लिखिए:- (1×2=2)

(क) सागर : सरताज :: शक्ति : ?

(i) सुंदर (ii) ताकत (iii) शेर (iv) सेब

(ख) रस्स : रस्सी :: त्त : ?

(i) कुत्ता (ii) सूरज (iii) लस्सी (iv) बस्ता

3. निम्नलिखित कथनों को पढ़कर सही विकल्प छाँटकर लिखिए:- (1×2=2)

(क) कथन:- 'हाथी ने पेड़ उखाड़ा।' वाक्य में 'उखाड़ा' शब्द 'क्रिया' है।

कारण:- काम वाले शब्दों को 'क्रिया' कहते हैं।

(i) कथन और कारण दोनों सही हैं, क्योंकि कारण कथन की सही व्याख्या करता है।

(ii) कथन और कारण दोनों सही हैं, परंतु कारण कथन की सही व्याख्या नहीं करता है।

(iii) कथन सही है, परंतु कारण ग़लत है।

(iv) कथन ग़लत है, परंतु कारण सही है।

(ख) कथन:- 'प्यारा-न्यारा' समान लय वाले शब्द के उदाहरण हैं।

कारण:- नाम वाले शब्दों को 'समान लय' शब्द कहते हैं।

(i) कथन और कारण दोनों सही हैं, क्योंकि कारण कथन की सही व्याख्या करता है।

(ii) कथन और कारण दोनों सही हैं, परंतु कारण कथन की सही व्याख्या नहीं करता है।

(iii) कथन सही है, परंतु कारण ग़लत है।

(iv) कथन ग़लत है, परंतु कारण सही है।

4. निम्नलिखित प्रश्नों के सही विकल्प छाँटकर लिखिए:- (1×2=2)

(क) 'पत्ता कुछ बड़ा था।' वाक्य में 'पत्ता' शब्द है-

(i) संज्ञा (ii) क्रिया (iii) वचन (iv) विलोम शब्द

(ख) 'जंगल' का समान अर्थ वाला शब्द है-

(i) रोना (ii) असमान (iii) वन (iv) फूल

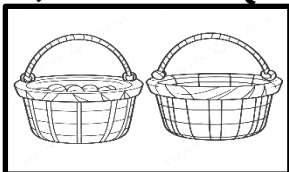
5. निम्नलिखित रिक्त स्थानों के लिए सही विकल्प छाँटकर लिखिए:- (1×2=2)

(क) कड़ाके कीपड़ रही थी। (सरदी / गरमी)


(ख) दीपक का जन्मदिन था। (चौथा / छठा)

6. निम्नांकित चित्रों को पहचानकर वचन के अनुसार उनके नाम लिखिए:- (1×2=2)

क)



ख)



7. स्तंभ (क) वाले शब्द को स्तंभ (ख) वाले उचित शब्द से मिलाकर लिखिए:- (1×3=3)

स्तंभ (क)	स्तंभ (ख)
(i) कमज़ोर	(अ) कटु
(ii) मधुर	(आ) छाँव
(iii) धूप	(इ) ताकतवर

8. निम्नलिखित कथनों को पढ़कर सही या ग़लत लिखिए:- (1×3=3)

(क) 'मकड़ी' शब्द का समान लय वाला शब्द 'ककड़ी' है।

(ख) 'काँपते' शब्द में अनुस्वार है।

(ग) 'हिम्मत' शब्द का अर्थ 'साहस' भी होता है।

9. निम्नलिखित शब्दों के लिंग बदलकर लिखिए:- (1×2=2)

(क) लेखक


(ख) हिरन

10. निम्नलिखित चित्रों को पहचानकर उचित मुहावरे लिखिए:- (1×2=2)

क)



ख)



11. निम्नलिखित गद्यांश को पढ़कर पूछे गए प्रश्नों के सही विकल्प वाले उत्तर छाँटकर लिखिए:- (1×5=5)

सोनाली रामपुर गाँव में रहती थी। गाँव के बीच से एक नदी बहती थी। पूरा गाँव रोज़ सुबह तीन आवाज़ों से जागता था। पहली, नदी की कल-कल की आवाज़। दूसरी, दूर नदी पार बजते ढोल की आवाज़। तीसरी, मस्जिद की मीनार से गूँजती अज़ान की आवाज़। अज़ान की आवाज़ सोनाली के दादाजी की थी। सोनाली के दादाजी वहीं रहते थे। एक दिन सुबह अज़ान की आवाज़ नहीं आई। गाँव में सब हैरान थे।

(क) सोनाली किस गाँव में रहती थी?

(i) श्यामपुर

(ii) रामपुर

(iii) जबलपुर

(iv) श्रीनगर

(ख) गाँव के बीच से क्या बहती थी?

(i) नदी

(ii) नगर

(iii) तालाब

(iv) कुआँ

(ग) पूरा गाँव रोज़ सुबह कितनी आवाज़ों से जागता था?

(i) एक

(ii) दो

(iii) तीन

(iv) पाँच

(घ) तीसरी आवाज़ किसकी थी?

- (i) अज्ञान की (ii) मुर्गी की (iii) चिड़ियों की (iv) बच्चों की

(ङ) अज्ञान की आवाज़ किसकी थी?

- (i) सोनाली के दोस्त की (ii) सोनाली के दादाजी की
(iii) गाँव वालों की (iv) ढोल की

12. निम्नलिखित प्रश्नों के सही उत्तर, विकल्पों में से छाँटकर लिखिए:- (1×5=5)

(क) हमारे देश का क्या नाम है?

- (i) अमेरिका (ii) भारत (iii) नेपाल (iv) दिल्ली

(ख) 'भारत देश' कविता में बच्चे अपने देश से क्या वादा करते हैं?

- (i) सोने का (ii) पेड़-पौधे लगाने का
(iii) खेलने का (iv) देश की शान बढ़ाने का

(ग) 'अगर पेड़ भी चलते होते' कविता में बच्चे पेड़ कैसे ले जाएँगे?

- (i) उसके तने में रस्सी बाँधकर (ii) उसका हाथ पकड़कर
(iii) नहीं ले जाएँगे (iv) उसके तने को खींचकर

(घ) 'अगर पेड़ भी चलते होते' कविता में वर्षा होने पर बच्चे क्या करते हैं?

- (i) खेलते हैं (ii) पेड़ के नीचे छिप जाते हैं
(iii) पेड़ के नीचे सो जाते हैं (iv) पेड़ पर चढ़ जाते हैं

(ङ) 'अगर पेड़ भी चलते होते' कविता में क्या खाने की बात कही गई है?

- (i) पत्तियाँ (ii) जड़ (iii) मीठे फल (iv) टहनियाँ

खंड - ब

13. निम्नलिखित प्रश्नों के उत्तर (15-20 शब्दों में) लिखिए:- (2×4=8)

(क) मक्खी में घमंड आने का क्या कारण था? आप मक्खी की जगह होते तो क्या मक्खी की तरह घमंड करते?

(ख) अगर रोहित पिता जी के दिए गाने को आधी रात में न गाता, तो क्या होता? आप रोहित के स्थान पर होते तो पिता जी से क्या माँग करते?

(ग) हाथी की ताकत को देख, आदमी ने खुश होकर क्या किया? यदि आप उस आदमी की जगह होते तो क्या करते?

(घ) आप अपने देश के प्रति क्या-क्या करना चाहेंगे?

14. निम्नलिखित प्रश्नों के उत्तर (20-25 शब्दों में) लिखिए:- (3×4=12)

(क) अध्याय 'बहादुर दोस्त' में लालू और दीपक ने मिलकर चोर को पकड़वाया। मुसीबत के समय आप अपने मित्र की मदद किस प्रकार करेंगे?

(ख) अध्याय 'गीत का कमाल' में रोहित ज़िद्दी लड़का था। क्या आप भी

ज़िद्द करते हैं? ज़िद्द करने से हमें क्या नुकसान होता है?

(ग) अध्याय 'दादाजी' में सोनाली अपने बीमार दादाजी के लिए अखरोट लेकर जाती है। आप अपने बीमार दादा-दादी या नाना-नानी की सेवा किस प्रकार करते हैं?

(घ) धरती को हरा-भरा रखने के लिए हमें क्या करना चाहिए?

15. निम्नलिखित विषयों में से किसी एक विषय पर (60 शब्दों में) अनुच्छेद (5×1=5) लिखिए:-

(क) मेरा प्रिय त्योहार / पर्व

(ख) पेड़-पौधों का महत्त्व

(ग) पुस्तकालय

16. अपने जन्मदिन पर नाना जी को निमंत्रित करते हुए (60 शब्दों में) पत्र लिखिए। (5×1=5)

अथवा

गरमी की छुट्टियों में बिताए पलों के बारे में बताते हुए अपने भैया को (60 शब्दों में) पत्र लिखिए।

17. दो मित्रों के बीच परीक्षा की तैयारी के विषय में हुई बातचीत को संवाद के रूप में (50 शब्दों में) लिखिए। (5×1=5)

18. प्रस्तुत चित्र का वर्णन (60 शब्दों में) कीजिए:- (5×1=5)



D.A.V. INSTITUTIONS, WEST BENGAL ZONE
PERIODIC TEST-2/ HALF YEARLY EXAMINATION
SESSION: 2024-2025

Class: III
Subject: Bengali

Maximum Marks: 80
Time: 2 Hours 30 Minutes

নির্দেশিকা:

ক) এই প্রশ্নপত্রে মোট চারটি বিভাগ আছে।

খ) এই প্রশ্নপত্রে মোট ১৬ টি প্রশ্ন আছে।

বিভাগ-ক


1. নিম্নলিখিত অনুচ্ছেদটি পড়ে সঠিক উত্তরটি বেছে নিয়ে লেখ: (1×10=10)

এক ছিল দুষ্ট্র মেয়ে বেজায় হিংসুটে, আর বেজায় ঝগড়াটে। কিন্তু হিংসুটির দিদি বড় লক্ষ্মী মেয়ে যেমন কাজে কর্মে, তেমনি লেখাপড়ায়। হিংসুটির বয়স সাত বছর হয়ে গেল, এখনও তার প্রথম ভাগই শেষ হল না। অন্যদিকে তার দিদি তার চাইতে মাত্র এক বছরের বড়, সে এখনই ‘বোধোদয়’ আর ‘ছেলেদের রামায়ণ’ পড়ে ফেলেছে, ইংরেজি ফার্স্টবুক তার কবে শেষ হয়ে গেছে! হিংসুটি সবাইকে হিংসে করে, এমনকি তার দিদিকেও হিংসে করত। দিদি স্কুলে যায়, প্রাইজ পায়, হিংসুটি খালি বকুনি খায় আর শাস্তি পায়। দিদি যেবার ছবির বই প্রাইজ পেলে আর হিংসুটি কিছু পেলে না, তখন যদি তার অভিমান দেখতে! সে সারাটা দিন ফুঁপিয়ে ফুঁপিয়ে গাল ফুলিয়ে ঠোঁট বাঁকিয়ে বসে রইল, কারো সঙ্গে কথাই বললো না।

- ক) অনুচ্ছেদটিতে বলা হয়েছে (একটি/দুটি/তিনটি/চারটি) মেয়ের কথা।
খ) হিংসুটির দিদি ছিল (দুষ্ট্র মেয়ে/দস্যি মেয়ে/ লক্ষ্মী মেয়ে/চঞ্চল মেয়ে)।
গ) হিংসুটির বয়স (পাঁচ বছর/সাত বছর/আট বছর/নয় বছর)।
ঘ) হিংসুটির দিদি (বর্ণপরিচয়/বোধোদয়/ কথামালা/ ঠাকুমার বুলি) পড়ে ফেলেছে।
ঙ) অভিমান করে হিংসুটি (খাওয়া/পড়া/খেলা/কথা) বন্ধ করেছিল।
চ) হিংসুটির (প্রথম ভাগ/ দ্বিতীয় ভাগ/তৃতীয় ভাগ/ ধারাপাত) শেষ হয় নি।
ছ) হিংসুটি তার দিদিকে (ভালোবাসে/ঘৃণা করে/শ্রদ্ধা করে/হিংসা করে)।
জ) স্কুলে হিংসুটির দিদি প্রাইজ পেয়েছিল (কবিতার বই/ গল্পের বই/ ছবির বই/ গানের বই)।
ঝ) ‘বেজায়’ শব্দটির অর্থ হল (খুব/কম/অল্প/অতি অল্প)।
ঞ) হিংসুটির দিদি হিংসুটির থেকে (তিন /দুই/ এক /চার) বছরের বড়।

বিভাগ-খ

2. অনুচ্ছেদ লেখ: (যে কোনো একটি) (5×1=5)



ক) বিড়াল



খ) আমাদের বিদ্যালয়

3. নীচের চিত্রটি বর্ণনা করে পাঁচটি বাক্য লেখ:

(5×1=5)



বিভাগ-গ

4. সঠিক সমার্থক শব্দটি খুঁজে নিয়ে লেখ:

(1×4=4)

- ক) শরীর - (তরু/তনয়/ তনু)
খ) ফুল - (প্রতুষ/পঙ্কজ/ প্রসূন)
গ) মুখ - (বদন/কলেবর/ মুণ্ড)
ঘ) দেবতা - (নর/সুর/শির)

5. সমার্থক শব্দ লেখ (দুটি করে):

(2×3=6)

- ক) পদ্ম
খ) হাত
গ) মেঘ

6. শূন্যস্থান পূরণ কর:

(1×5=5)

- ক) ব্যঞ্জনবর্ণের সঙ্গে স্বরবর্ণের যোগ সাধনকে _____ বলে।
খ) বাংলা বর্ণমালায় মোট বর্ণের সংখ্যা _____ টি।
গ) 'দ' বর্ণটি _____ বর্ণের অন্তর্গত।
ঘ) 'ক' থেকে 'ম' পর্যন্ত বর্ণগুলিকে _____ বর্ণ বলে।
ঙ) 'উষ্ম' শব্দটির অর্থ হল _____।

7. বাম দিকের সাথে ডান দিক মেলাও:

(1×5=5)

বাম দিক	ডান দিক
ক) প্রতিটি বর্ণে বর্ণ আছে	i) নিজে নিজে উচ্চারিত হতে পারে না
খ) বর্ণ হল ধ্বনির	ii) ৫ টি
গ) 'ঐ', 'ও' হল	iii) ১১ টি
ঘ) 'কার' সংখ্যায়	iv) লিখিত রূপ
ঙ) ব্যঞ্জনধ্বনিগুলি	v) যৌগিক স্বর

বিভাগ-ঘ

8. অর্থ লেখ:

(1×3=3)

ক) প্রত্যাবর্তন

খ) অলস

গ) চম্পট

9. বিপরীত শব্দ লেখ:

(1×3=3)

ক) কিনে

খ) সন্ধ্যা

গ) ক্ষুদ্র

10. সঠিক উত্তরটি নির্বাচন করে লেখ:

(1×5=5)

ক) মেয়েরা (পদ্ম পাতায়/ কলা পাতায়/কচু পাতায়/ শাল পাতায়) ফুল তুলছে।

খ) ঝড়ের রাত লেখকদের কেটেছিল(ঘুমিয়ে/ জেগে/ খেলা করে/খানিক ঘুমিয়ে, খানিক জেগে)।

গ) নেকড়ে-মাকড়সা (এক ইঞ্চি/ আধ ইঞ্চি/আট ইঞ্চি/চার ইঞ্চি) লম্বা হয়।

ঘ) হাতে প্রাণে খাটো সব (বুদ্ধি/ শক্তি/ শান্তি/ মুক্তি) করো দান।

ঙ) বেদেনির পাশে বাঁধা ছিল (ছাগলছানা/ কুকুরছানা/ শূকরছানা/ বিড়ালছানা)।

11. একটি পূর্ণবাক্যে উত্তর দাও:

(1×5=5)

ক) ‘আদর্শ ছেলে’ - কবিতায় কবি কী পণ করতে বলেছেন?

খ) ঝড়ের সময়ে বাঘটি কোন্ গাছে চেপেছিল?

গ) কাকেরা কোথায় ডাকছে?

ঘ) শহরের রাস্তায় জল জমে থাকার খবর কে দিয়েছিল?

ঙ) ‘পারিব না’ কবিতাটি কোন্ কাব্যগ্রন্থ থেকে নেওয়া হয়েছে?

12. বাক্য রচনা কর: পাঠশালা

(1×1=1)

13. সত্য/ মিথ্যা লেখ:

(1×5=5)

ক) আবদুল বন্দুক দিয়ে বাঘের সঙ্গে মোকাবিলা করতে চেয়েছিল।

খ) জলে নামলে সাঁতার শেখা যায় না।

গ) সকালে বর্ষার সময় সবাই ওয়াটারপ্রুফ রেনকোট ব্যবহার করত।

ঘ) চেতনা থাকলে সবাই এগিয়ে যায়।

ঙ) বাচ্চা মাকড়সারা অনেকেই অনাহারে মারা যায়।

14. শূন্যস্থান পূরণ কর:

(1×3=3)

- ক) আবদুল বাঘটিকে দিয়ে গুণ টানিয়েছিল _____ ক্রোশ রাস্তা ।
খ) _____ শিখে না কেহ, না পড়ি আছাড় ।
গ) _____ জ্বালায় দাসীরা, নিবে নিবে যায় বাতাসের জোরে ।

15. ‘আদর্শ ছেলে’- কবিতাটি কবির নামসহ প্রথম চার লাইন মুখস্থ লেখ।

(5×1=5)

16. নীচের প্রশ্নগুলির যথাযথ উত্তর দাও:

(2×5=10)

- ক) লেখকের বাড়ির সবাই ঝড় জলের রাতে কোথায় গিয়ে শুয়েছিল? কেন সবাই সেখানে শুয়েছিল?
খ) ‘আবদুল মাঝির গল্প’- তে ‘দানো গিরগিটি’ বলতে কার কথা বলা হয়েছে? বেদেনি কী দিয়ে তার গলায় পোঁচ লাগিয়েছিল?
গ) কারা, কেন তীক্ষ্ণ দৃষ্টিতে পিঁপড়াদের যাওয়া আসা দেখে?
ঘ) ‘পারিব না’ কথাটি না বলে আমাদের কী করা উচিত?
ঙ) সেকালের ছেলেমেয়েদের স্কুলে যাওয়ার সাথে তোমার স্কুলে যাওয়ার পদ্ধতির দুটি পার্থক্য লেখ।

D.A.V. INSTITUTIONS, WEST BENGAL ZONE
PERIODIC TEST - 2/HALF YEARLY EXAMINATION
SESSION: 2024-2025

Class: III
Subject: English

Maximum Marks: 80
Time: 2 Hours 30 Minutes

General Instructions:

- 1. This paper consists of four sections: A, B, C and D.*
- 2. Attempt all questions.*
- 3. Read each question carefully and follow the instructions.*

Section A: Reading (10 Marks)

1. A. Read the passage and answer the following questions:

A poor man saw a large pot of soup in a restaurant. He held his only piece of bread over the soup. The steam from the soup gave the bread a good smell. Then he ate the bread. The owner of the restaurant became very angry at this and he asked the man to pay for the steam from the soup. The poor man had no money. So, the owner took him to Judge Nasruddin.

Nasruddin thought about the case for a while. Then, he took some coins from his pocket. He held the coins next to the owner's ear and shook them, so that they made a jingling sound. "What was that?" asked the restaurant owner. "That was your payment," answered Nasruddin.

i) Complete the following sentence: **(1)**

As the poor man had no money, the restaurant owner took him to _____.

ii) Choose the correct option: **(1)**

The owner asked the poor man to pay for the -

- | | |
|--------------------|-----------------------|
| (a) soup | (b) smell of the soup |
| (c) bread and soup | (d) bread |

iii) Find the word from the passage which means – ‘an eating place’. **(1)**

iv) Why did the owner take the poor man to the judge? **(2)**

B. Read the passage and answer the following questions:

Do you know about the importance of teeth in our lives? They not only let you chew apples but also help you to talk! By 12 or 13 years of age, most kids lose all of their baby teeth to have a full set of permanent teeth. Brushing your teeth regularly, twice a day, keeps them safe. The best way to brush them is to go round and round until you have covered every surface. It is also important to visit your dentist at regular intervals to check your teeth. Eating fewer sweets and taking less drinks can prevent tooth decay. After all, prevention is better than cure. So, take care of your teeth from today.

i) Fill in the blank with a suitable word from the passage: (1)

A _____ is a doctor who is specially trained to take care of your teeth.

ii) State if the given sentence is 'True' or 'False': (1)

Your grandpa's tooth will grow back if it falls.

iii) Find the word from the passage which means – 'stop'. (1)


iv) How would you take care of your teeth? (2)

Section B : Writing (20 Marks)

2. Prepare a poster on the given topic – 'Save Animals'. (4)

3. Observe the picture carefully and frame eight sentences on it with the help of the hints given in the aid box: (8)

park,	swing,	enjoy,	benches,	slides,	lot of fun,
	skipping rope,		baby on the pram		



4. Compose a paragraph on 'My Favourite Sports'. (8)

Section C : Grammar (20 Marks)

- 5. Identify the underlined nouns as Common Noun (CN) or Proper Noun (PN) in the following sentences: (1×4=4)**
- i) Rohit is playing football.
 - ii) The Times of India is the newspaper I read daily.
 - iii) The Statue of Liberty is a famous monument.
 - iv) She has many red roses in her garden.
- 6. Choose the correct pronouns from the brackets to complete the following sentences: (1×4=4)**
- i) _____ were playing in the park with their friends (They/He).
 - ii) _____ (We/Us) both know each other since childhood.
 - iii) My uncle is coming to visit _____ (our/us).
 - iv) Tina saw _____ in the market yesterday (they/them).
- 7. Fill in the blanks with the singular or plural form of the nouns given in the brackets: (1×4=4)**
- i) She has three _____ (child) at home.
 - ii) There is a _____ (mice) in the kitchen.
 - iii) I bought some _____ (candy) from the market.
 - iv) My _____ (teeth) is aching.
- 8. Identify the adjectives in the following sentences and mention their types (Quality, Quantity, Number): (1×4=4)**
- i) A student lost his new notebook in school.
 - ii) The fierce tiger roared loudly in the jungle.
 - iii) The whole pie was delicious.
 - iv) There are six cookies left in the jar.
- 9. Identify the underlined verbs as Helping Verb (HV) or Main Verb (MV) in the following sentences: (1×4=4)**
- i) The children ran to their classroom.
 - ii) We are studying English in class.
 - iii) Please sit on the chair.
 - iv) You have helped me a lot.

Section D : Literature (30 Marks)

10. A. Choose the correct answer from the given alternatives: **(1×3=3)**

- i) The poet advises us not to make fun of camel's _____.
(a) hump (b) bump (c) lump (d) slump
- ii) Somu's mother took Molly out of the cage carefully and stroked her _____ feathers.
(a) red (b) blue (c) yellow (d) green
- iii) Which of the following birds is extinct?
(a) crow (b) dodo (c) hornbill (d) sparrow

B. State whether the following sentences are True or False: **(1×3=3)**

- i) The chimpanzee thinks himself to be wise like us.
- ii) At night, Somu gave Molly a lump of sugar.
- iii) Dinosaurs used to live on earth hundreds of years ago.

C. Fill in the blanks with suitable words: **(1×4=4)**

- i) The penguins can understand the _____ you make.
- ii) In the beginning, Molly's friends were very _____ of her.
- iii) Ramesh lived in a small village called _____.
- iv) Minu met Dino in the _____.

D. Answer the following questions in one word each: **(1×4=4)**

- i) Name the poet of the poem 'At The Zoo'.
- ii) **Somu shifted his interest from Molly to some other thing-** What was the 'other thing' referred to here?
- iii) Name a disease caused by drinking dirty water.
- iv) Name the place where people can see old and interesting things?

11. Answer the following questions in brief: **(2×6=12)**

- i) How should we behave with animals when we visit a zoo?
- ii) Do you think Somu is a careless boy? Give a reason for your answer.
- iii) Why do men kill animals?
- iv) What did Ramesh's mother instruct him to do daily?
- v) Describe the appearance of Dino.
- vi) How was the canary saved at the end of the story 'The Canary'?

12. In the prose piece 'The God of River', the teacher gave Ramesh more information about water pollution - suggest **any four steps to control water pollution.** **(4)**

D.A.V. INSTITUTIONS, WEST BENGAL ZONE
PERIODIC TEST -2/ HALF YEARLY EXAMINATION
SESSION: 2024-2025

Class: III

Subject: Mathematics

Maximum Marks: 80

Time: 2 Hours 30 Minutes

General instructions:

1. The question paper contains 2 pages and 29 questions.
2. All the questions are compulsory.

Section - A

Fill in the blanks:

1. The greatest 3-digit number is _____. (1)
2. 200 more than 600 is _____. (1)
3. $1200 - \underline{\hspace{2cm}} = 0$ (1)
4. $75 \times \underline{\hspace{2cm}} = 56 \times \underline{\hspace{2cm}}$ (1)
5. If $21 \div 7 = 3$, then the quotient is _____. (1)
6. The minute hand completes _____ round(s) in 1 hour. (1)
7. The shortest month of the year is _____. (1)
8. When the minute hand is at 2 and the hour hand is between 11 and 12, the time is _____. (1)

Section - B

9. Find the predecessor and the successor of the smallest 3-digit number. (2)
10. Fill in the boxes with the digits from 0 to 9: (2)

$$\begin{array}{r} 2 \quad \boxed{} \quad 6 \quad 9 \\ - 1 \quad 0 \quad 4 \quad \boxed{} \\ \hline 1 \quad 4 \quad 2 \quad 6 \end{array}$$

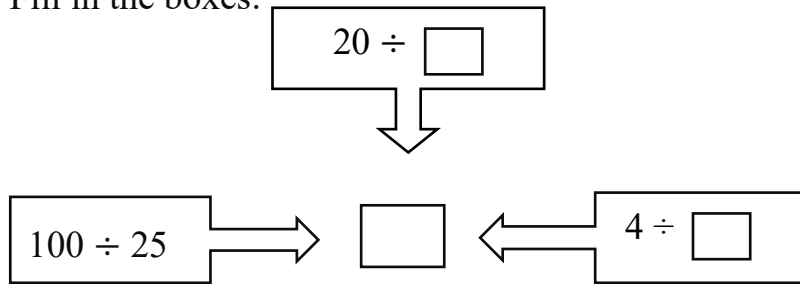
11. (a) $64 \times \underline{\hspace{2cm}} = 6400$ (1+1)
(b) $8 \times 400 = \underline{\hspace{2cm}}$
12. Write two division facts for $12 \times 4 = 48$. (2)
13. Write the 'times' in numbers: (1+1)
(a) Quarter to 9.
(b) Half past 11.
14. Write down the name of the months which have 30 days. (2)

Section - C

15. Form the greatest and the smallest 4-digit number using the digits 3, 5, 0, 9 only once. (3)
16. Subtract 1672 from 3589 and check your answer. (3)

17. Find the product: 705×86 (3)

18. Fill in the boxes: (3)



19. Solve and write Quotient and Remainder: $909 \div 9$ (3)

Section - D

20. Number: 6834 (4)

(a) Represent the underlined digit of the above number on an abacus.

(b) Write the place and place value of the underlined digit.

21. Arrange in column and add: 6432 , 2691 , 725 (4)

22. Divide 28 by 7 using repeated subtraction method. (4)

23. Write the time in a.m. or p.m. (4)

(a) Praying to God in the morning.

(b) Sleeping at night.

(c) Having lunch at 2 O'clock.

(d) Playing in the evening.

24. (a) Draw a clock and show the time:- 3 : 45 (3+1)

(b) Also write the time in words.

Section- E

25. In a book fair there are 2500 English story books, 5758 Hindi story books and 989 Comics. How many books are there in all? (5)

26. Seema wants to buy a book for ₹5769. She has ₹2975 with her. How much more money does she need to buy the book? (5)

27. Each child of DAV Public School donated ₹75 for the flood relief fund. If there are 485 students in the school, find the total money donated by the students. (5)

Which value is depicted by the students?

28. Find the product: (3+2)

(a) 275×29

(b) 700×12

29. Radha has a collection of 56 marbles. She wants to put 7 marbles in each jar. How many jars will she need to put all the marbles? (5)

D.A.V. INSTITUTIONS, WEST BENGAL ZONE
PERIODIC TEST-2/ HALF YEARLY EXAMINATION
SESSION: 2024-2025

Class: III

Subject: Science

Maximum Marks: 80
Time: 2 Hours 30 Minutes

General Instructions:

(i) The question paper consists of 8 questions.

(ii) All questions are compulsory.

1. Choose the correct answer from the given options:

(1×10=10)

a. Which among the following is a correct pair?

- | | |
|--------------------------|---------------------|
| (i) Bitter gourd: Bitter | (ii) Toffee : Salty |
| (iii) Lemon: Sweet | (iv) Sugar : Sour |

b. Land animals generally walk on _____ legs.


- | | |
|-----------|------------|
| (i) Five | (ii) Three |
| (iii) One | (iv) Four |

c. Leaf of this plant is used for protecting clothes from insects:

- | | |
|-------------|-------------|
| (i) Neem | (ii) Banana |
| (iii) Mango | (iv) Papaya |

d. The leaves of this plant are used for curing cough and cold Identify the plant.

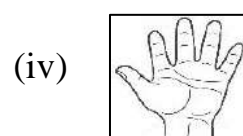
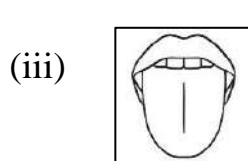

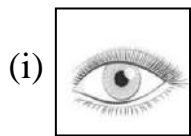
- | | |
|--------------------|-------------------|
| (i) Curry leaves | (ii) Neem leaves |
| (iii) Tulsi leaves | (iv) Mango leaves |



e. "I" can live without water for many days. Who am "I"?

- | | |
|------------|-------------|
| (i) Snake | (ii) Camel |
| (iii) Lion | (iv) Monkey |

f. We smell through our _____.(Write the correct sense organ)



g. Shrubs: Rose :: Tree: _____

- | | |
|-------------------|--------------|
| (i) Tomato | (ii) Grass |
| (iii) Money plant | (iv) Coconut |

h. Which of the following items we do not get from plant?

- | | |
|--------------|-------------------|
| (i) Medicine | (ii) Plastic bags |
| (iii) Oils | (iv) Rubber |

i. Read the following statements and choose the correct answer from the given options:

Statement-1: Climbers have weak and thin stem.

Statement-2: Grape vine can climb without support.

Choose the correct answer:

- (i) Statement 1 and statement 2 both are true
- (ii) Statement 1 and statement 2 both are false.
- (iii) Statement 1 is true but statement 2 is false
- (iv) Statement 1 is false but statement 2 is true.

j. Plants act as an –

- (i) Air purifier
- (ii) Water purifier
- (iii) Soil purifier
- (iv) Blood purifier

2. Fill in the blanks with appropriate words: (1×10=10)

- a. Our _____ is the strongest muscle in our body.
- b. The green substance present in leaf is called _____.
- c. _____ leaves are good for eyesight and help to cure diarrhoea.
- d. We need to protect our forests and put a ban on _____.
- e. Turtles have _____ for swimming.
- f. Our _____ help us to express our feelings and emotions.
- g. Bougainvillea plant is an example of _____.
- h. People often use coriander leaves to add _____ to the food.
- i. We should promote _____ to save earth.
- j. Zebra lives in _____.

3. Match the following: (1×6=6)

Column-A

- a. Take bath
- b. Shrubs
- c. Coriander
- d. Van Mahotsav
- e. Piranha
- f. Rabbit

Column-B

- i. Fresh water animal
- ii. Terrestrial animal
- iii. Bushy and have multiple branches
- iv. Daily
- v. Garnishing
- vi. Festival of planting of new plants

4. Read the passage and answer the following questions: (1×4=4)

One day while walking in the park with her grandfather, Mohini observed that some people were walking, some were exercising and some were meditating. She asked her grandfather, about the activities that people were doing in the park. Her grandfather explained her about the benefits of all activities.

- a. How can we keep our body fit?
- b. Write one precaution that you should take while reading.
- c. What do you use to clean your tongue?
- d. Skin is the largest sense organ of our body. Write one way to take care of it.

5. Answer the following questions in brief:

(2×6=12)

- a. On touching ice, Neha immediately withdraws her hand from it.
 - (i) State the reason behind her action.
 - (ii) Which sense organ helps her to feel?
- b. Explain the reason behind shedding of leaves.
- c. Give reason- 'Lizards and snakes live in burrow in desert'.
- d. What would happen if a climber plant doesn't have any support to grow?
- e. Observe the given pictures (A) and (B) and answer the following questions:



(A)



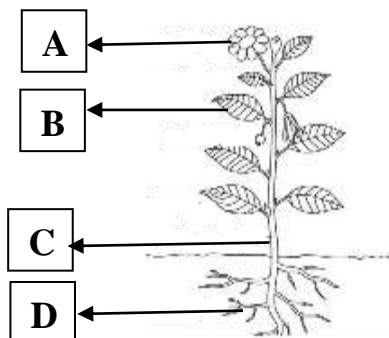
(B)

- (i) Identify A and B.
 - (ii) Write any one difference between them.
- f. "Trees purify the air". Explain.

6. Do as directed:

(3×4=12)

- a. Observe the given picture and answer the following:



- (i) Identify the parts of the plant labelled as A, B, C and D in the above picture.
 - (ii) State the function of D.
- b. If we have to survive on earth, we must protect the plants.
- (i) State whether the statement is true or false?
 - (ii) In which form do we get food from plants? (Any two)
- c. Suggest any three ways that help to conserve plants.
- d. Observe the animals given below and write the names and their habitats.:

i)



ii)



iii)



7. Answer the following questions according to the instructions given: (4×4=16)

a. Complete the table:

PLANT TYPE	STEM TYPE
(i) _____	A. Very strong
(ii) Herbs	B. _____
(iii) Climbers	C. _____
(iv) _____	D. Very thin and weak

b. State the use of the following leaves:

- i) Spinach ii) Curry leaves iii) Fenugreek iv) Mint

c. Observe the given pictures carefully-



A



B

- i) Observe the two pictures and write which place is suitable for human beings. Picture A or Picture B and Why?
 ii) How do plants help the soil?

d. Arjun and Priya are excited about their jungle safari trip with their family. They are going to visit a National Park where they will have a chance to see various wild animals in their natural habitat.

- (i) Name any four animals they would see during this trip.
 (ii) What protect these animals from danger in forest?

8. a. (i) Draw a leaf and label its Tip and Mid vein (4+1=5)

- (ii) Name two green leafy vegetables.

b. (i) Draw a diagram of the tongue and label the parts which help to detect-

A) Salt in a curry

B) Taste of ice cream

(4+1=5)

C) Taste of lemon

D) Taste of a neem leaf.

- (ii) What is the average length of human tongue?

D.A.V. INSTITUTIONS, WEST BENGAL ZONE
PERIODIC TEST-2/HALF YEARLY EXAMINATION
SESSION: 2024-2025

Class: III

Subject: Social Science

Maximum Marks: 80

Time: 2 Hours 30 Minutes

General Instructions: -

- *This question paper contains 24 questions.*
- *All questions are compulsory.*
- *Marks for each question are indicated against it.*

1. Choose the correct option from the given alternatives: - (1×5=5)

- a)** Vishu's paternal grandparents live in _____.
i) Lucknow ii) Hyderabad
iii) Kapurthala iv) Jaipur
- b)** The famous dish of Kashmir is _____.
i) Sarson-ka-saag ii) Idli-Sambhar
iii) Dal-batti –churma iv) Gushtaba
- c)** The type of materials people choose for their dresses depends upon the _____.
i) food habit ii) climate
iii) knowledge iv) skill
- d)** _____ is the most useful tool of early man.
i) spear ii) axe
iii) arrow iv) hammer
- e)** The person who travels in a spacecraft is called an _____.
i) architect ii) astronaut
iii) engineer iv) lawyer

2. Fill in the blanks with appropriate words: (1×5=5)

- a) Members of family often _____ each other.
- b) We get most food items from _____.
- c) Most of the children in school wear _____.
- d) Early man did not have any idea about _____.
- e) Education is the _____ of every child.

3. State whether the statements are True or False:- (1×5=5)

- a) Sitting cross legged while eating is good for digestion.
- b) Identical twins look different.
- c) Ancient man moved from place to place in search of food and water.
- d) The person who repairs leaking taps is called gardener.
- e) Indian law bans the employment of children below the age of fourteen.

4. Match the following: (1×5=5)

Column A	Column B
a) Vishu's father	i. Badminton player
b) A Potter uses	ii. Assam
c) Prakash Padukone	iii. Begging
d) Shukku hates	iv. Clay
e) Mekhla Chadder	v. Soldier

- 5. Mention any two famous personalities who followed the footsteps of their parents. (2)
- 6. Rohan lives in Rajasthan. He eats different types of dals in his food, but not different vegetables. Give reason. (2)
- 7. State any two reasons why we should not waste food. (2)
- 8. Write any two importance of uniforms worn by the people of different occupations. (2)
- 9. Identify the classical dance forms in the given pictures. (2)



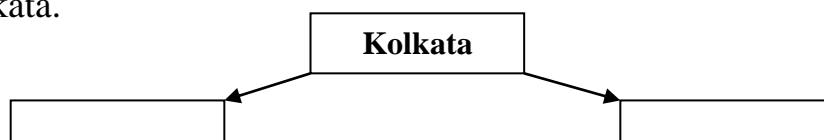

a) _____



b) _____

- 10. Mention any two ways by which the discovery of fire helped the early man. (2)
- 11. Write the ways used by early man to improve the stone tools. (2)
- 12. Name any four jobs that we learn just by watching other people. (1/2×4=2)
- 13. Mention two disadvantages of child labour. (2)

14. List any two problems that are created due to large size of a family. (2)
15. Pihu lives in Bhopal with her parents, grandparents, uncle, aunt and her cousins. Navita lives in Kolkata with her parents. (1+2)
- a) Identify the types of family Pihu and Navita have.
- b) List any two differences between their families.
16. The food habits and tastes of people are changing now a days. Give any three reasons. (3)
17. Riya has long black hair, whereas her mother has short and brown hair. State any three physical features of your which is similar to your family members. (3)
18. Analyse the keywords that we learn from Mr. Sreedharan and his team. (3)
19. Identify the personality in the given picture. Write any two of his achievements. (1+2)
20. Vishu's grandmother helps poor women. Elaborate. Mention any two things that you do together with your family members. (3+2)
21. Farming and settled life changed the types of work of early man. Make any five list of such works. (5)
22. We should develop respect for all types of jobs. Analyse the statement with suitable example. (3+2)
23. a) Draw any three pictures of healthy food and name them. (3+2)
- b) Complete the chart with two famous food that you will try if you visit Kolkata.



24. Locate and colour the following places on the political map of India. Prepare an index. (1×5=5)
- The state in India where Sunita Williams's relatives live.
 - The state where dal-batti-churma is a famous dish.
 - The place where men and women wear Phiran.
 - Mark one eastern state of India.
 - One neighbouring state of Tamil Nadu.

Name: _____ R.no. _____ Class ____ Sec: _____

