

D.A.V. INSTITUTIONS, WEST BENGAL ZONE
PERIODIC TEST-II / HALF YEARLY EXAMINATION
SESSION: 2022 – 2023

Class: III
Subject: Bengali

Maximum Marks: 80
Time: 2 Hours 30 Minutes

1. নিচের পাঠ্য অংশটি পড়ে প্রশ্নগুলির উত্তর দাও - (1×10=10)

রাজা মশায় সভায় বসে আছেন, এমন সময়ে মানিকলালের নৌকা সেখানে এসে উপস্থিত। সকলে নৌকার রূপ গুণ দেখে আশ্চর্য হয়ে গেল। অনেক প্রশংসা করতে লাগলো। রাজা মশায় যে আশ্চর্য হলেন না তা নয় কিন্তু তা চেপে রেখে মানিককে বললেন - “এতেও হচ্ছে না, আরেকটা কাজ করে দিতে হবে। ঘ্যাঁঘাসুরের লেজের এক গোছা পালক পেলে আমার মুটুকের শোভা হয়।” মানিক “যে আজ্ঞা” বলে ঘ্যাঁঘাসুরের পালক আনতে চলল। একটা পাখি, খানিকটা জানোয়ার, বিদঘুটে চেহারা, ভারী জ্ঞানী, বেজায় ধনী ঘ্যাঁঘাসুর মহাশয় এক মাসের পথ দূরে অজানা নদীর ধারে অচেনা শহরে সোনারপুরীতে বাস করেন। মানুষ দেখতে পেলে রসগোল্লার মতো টপ্ করে গিলে ফেলেন। পথে যেতে মানিকের সঙ্গে এক ব্যক্তির দেখা হল। ব্যক্তির নাম শ্যামাচরণ, রামনগরে তার বাসা। অবশেষে একমাস পরে অজানা নদীর ধারে এসে মানিক ঘ্যাঁঘাসুরের সোনার বাড়ি দেখতে পেল। কিন্তু অজানা নদীতে নৌকা নাই খেয়া নাই কেবল অকূল জল।

ক) রাজা মশায় কোথায় আছেন ?

খ) এমন সময়ে সেখানে কী এসে উপস্থিত হলো ?

গ) মানিককে রাজা মশায় কী বললেন ?

ঘ) মানিক কোথায় চলল ?

ঙ) ঘ্যাঁঘাসুর কোথায় বাস করেন ?

চ) মানুষ দেখতে পেলে ঘ্যাঁঘাসুর কী করেন ?

ছ) পথে মানিকের সঙ্গে কার দেখা হলো ?

জ) অজানা নদীর ধারে মানিক কী দেখলো ?

ঝ) অর্থ লেখো - শোভা


ঞ) বিপরীত শব্দ লেখো - ভারী

2. নিচের যেকোন একটি বিষয় অবলম্বনে অনুচ্ছেদ রচনা করো - (5×1=5)

ক) বিড়াল অথবা খ) আমাদের বিদ্যালয়

3. নিচের চিত্রটি বর্ণনা করে পাঁচটি বাক্য লেখো -

(5×1=5)



4. নির্দেশ অনুযায়ী উত্তর দাও -

(1×5=5)

i) বন্ধনী থেকে সঠিক উত্তরটি বেছে লেখো -

ক) পদ গঠন করতে হলে শব্দের সঙ্গে _____ যোগ করতে হয়।

(বিভক্তি / পদ)

খ) অর্থবোধক ধ্বনিসমষ্টিকে বলা হয় _____। (শব্দ / বাক্য)

ii) উদ্দেশ্য ও বিধেয় ভাগ করে লেখো -

ক) বৃষ্টির দিনে খিচুড়ি খেতে ভালো লাগে।

খ) পশ্চিমবঙ্গ ভারতের একটি রাজ্য।

গ) শরৎকালে দুর্গাপূজা হয়।

5. ক) নিচের বাক্যের মোটা হরফের পদগুলি কোনটি কী পদ নির্ণয় করো -

(1×5=5)

i) বিপিনবাবু অফিসে চাকরি করেন ।

ii) ঝাম্ ঝাম্ করে বৃষ্টি পড়ছে ।

iii) মাধব সকাল থেকে পড়ছে ।

খ) বন্ধনী থেকে সঠিক পদ বেছে শূন্যস্থান পূরণ করো -

i) _____ আমাদের প্রধান শিক্ষক । (তোমরা / তিনি)

ii) সলিল _____ ছেলে । (ভালো / খুব)

6. বাঁদিকের সাথে ডানদিক মিলিয়ে লেখো -

(1×5=5)

বাঁদিক	ডানদিক
ক) ইচ্ছা	i) ভেজাল
খ) বাসি	ii) ভাটা
গ) খাঁটি	iii) স্থির
ঘ) জোয়ার	iv) অনিচ্ছা
ঙ) চঞ্চল	v) তাজা

7. বন্ধনী থেকে সঠিক উত্তরটি বেছে লেখো -

(1×5=5)

- ক) যা বনে জন্মেছে - (জলজ / বনজ) ।
খ) যা পাওয়া উচিত - (পেয় / প্রাপ্য) ।
গ) যে সাঁতারে পটু - (সাঁতারু / সুরেলা) ।
ঘ) যে ঈশ্বরে বিশ্বাস রাখে - (নাস্তিক / আস্তিক) ।
ঙ) যা দান করা উচিত - (কর্তব্য / দাতব্য) ।

8. অর্থ লেখো -

(1×3=3)

- ক) পরান খ) হিজিবিজি গ) ধানসুদ্র

9. বিপরীত শব্দ লেখো -

(1×3=3)

- ক) সকাল খ) জীব গ) বিখ্যাত

10. একটি বাক্যে উত্তর দাও -

(1×3=3)

- ক) পরিবেশের সজীব অংশ কোনগুলি ?
খ) জীবাণু বলতে কী বোঝায় ?
গ) সোনার বরণ সূর্য কোন্ দিকে ওঠে ?

11. শূন্যস্থান পূরণ করো -

(1×4=4)

- ক) যাদের জীবন বা প্রাণ নেই তারা _____ ।
খ) বিকেলে শুনি _____ চিৎকার ।
গ) _____ হয়ে খাতাটায় / রয়ে যায় তখনই ।
ঘ) কাঁপিয়ে পাখা / নীল পতাকা / জুটলো _____ ।

12. ঠিক অথবা ভুল লেখো -

(1×4=4)

- ক) আখের আগার স্বাদ নোনতা হয়।
খ) টুনিসাহেব জাল দিয়ে পাখি ধরলেন।
গ) রাত ফরসা হলে ফুল ফোটে , পাখি ডাকে।
ঘ) বইয়ের পাতায় চাই, মন খানা রাখতে।

13. সঠিক উত্তরটি বেছে লেখো -

(1×5=5)

- (ক) পৃথিবীর রাজা হল (চন্দ্র / সূর্য / সমুদ্র) ।
(খ) জলে গোলা হয়েছিল (নীল রং / সবুজ রং / লাল রং) ।
(গ) কুমির আর শেয়াল দ্বিতীয়বার (ধানের / আখের / আলুর) চাষ করেছিল।
(ঘ) পরিবেশের প্রধান অংশ (তিনটি / দুটি / চারটি) ।
(ঙ) আখ চাষের সময় কুমির নিয়েছিল (আগার অংশ / মাঝের অংশ / গোড়ার অংশ)।

14. বাঁদিকের সঙ্গে ডানদিক মেলাও -

(1×3=3)

বাঁদিক	ডানদিক
ক) হেরিলে মায়ের মুখ	i) আদর সোহাগ সে ত
খ) মায়ের মতন এত	ii) শিরে লয়ে মা-র
গ) গাই গান পদধূলি	iii) দূরে যায় সব দুখ

15. “সারাদিন” কবিতাটি কবির নামসহ প্রথম চার লাইন মুখস্থ লেখো।

(1+4=5)

16. সংক্ষেপে উত্তর দাও -

(2×5=10)

- ক) বাবা মশায় কোন্ পাখি পুষতেন ? টুনি সাহেব চম্পট দিয়েছিলেন কেন ?
খ) “বোকা কুমিরের কথা” গল্পে শিয়াল কুমিরকে ঠকিয়েছিল নাকি কুমির নিজের বোকামির জন্য ঠকেছিল ?
গ) প্রাকৃতিক পরিবেশ বলতে কী বোঝায় ?
ঘ) সকাল বেলায় পরিবেশ কেমন হয় ?
ঙ) মা'কে কেন সকলের চেয়ে বড় বলা হয় ?

D.A.V. INSTITUTIONS, WEST BENGAL ZONE
PERIODIC TEST 2/HALF YEARLY EXAMINATION
SESSION:2022-2023

Class: III
Subject: English

Maximum Marks: 80
Time: 2Hours 30Minutes

Section – A (Reading Skill-10 marks)

1. A) Read the passage carefully and answer the following questions: (1+1+1+2)

Charley is a six-year-old boy, and he loves the holidays. Whenever his school remains closed, he definitely goes to his maternal grandmother's house with his mother. He loves his grandmother and she also loves him very much. When Charley goes to his grandmother's house, she cooks a variety of dishes for him and gives him many toys to play with. Charley's most loving thing in his grandmother's house is her pet dog because it always play with Charley. When he comes back to his house, his grandmother gives him fifty rupees every time.

- i) How old is Charley?
- ii) With whom does Charley go to his grandmother's house?
- iii) How much money does Charley's grandmother give him every time?
- iv) What is Charley's most loving thing in his grandmother's house and why?

B) Read the passage carefully and answer the following questions-

A frog is an animal that lives both on land and in water, so it's also called an amphibian. When there is more cooling in the atmosphere, it goes inside the ground for about 2 feet. There is a difference between the front and back legs of the frog. Actually, it has four legs and its hind legs are bigger than the front legs. The temperature of the frog varies according to the temperature of the environment. They are mostly seen during the rainy season. So far, more than five thousand species of frogs have been discovered.

- i) Where do frogs live? (1+1+1+2)
- ii) How many species of frogs are there?
- iii) Which legs of the frog are bigger?
- iv) When does the frog go inside the ground? Are frogs aquatic or amphibians?

Section – B (Writing Skill - 20 Marks)

2. Prepare a poster on "USE DUSTBIN". (4)
3. Look at the picture carefully and describe it in the form of a paragraph. (8)



4. Write a paragraph on "My best friend". (8)

Section-C (Grammar - 20 Marks)

5. Identify the nouns and state their kinds (common/ proper)- (1×4=4)
- a) India is a big country.
 - b) Ganga is a holy river.
 - c) The bear climbed up the tree.
 - d) Ravi likes to read books.
6. Fill in the blanks with the suitable pronouns. (1×4=4)
- a) Rita goes to school every day. _____ is a good girl.
 - b) Rohan and Soham are best friends. _____ are always together.
 - c) Meeta was late in class, so the teacher was angry with _____.
 - d) I did not buy the toy. Because _____ was costly.
7. Change the following nouns into plural forms: (1×4=4)
- a) Knife -
 - b) Wolf -
 - c) Storey-
 - d) Tooth-
8. Pick out the adjectives in the following sentences and state their kinds. (1×4=4)
- a) There are twenty apples in the basket.
 - b) Sania is an intelligent girl.
 - c) We have bought enough milk.
 - d) They don't have much money.
9. Identify the helping verbs and the main verbs in the following sentences: (1×4=4)
- a) Rohit was talking on phone.
 - b) The birds are flying in the sky.
 - c) The boy is reading a comic book.
 - d) I am going to school.

Section-D (Literature - 30 Marks)

10. A) Choose the appropriate answer from the given options:

(1×3=3)

(i) The correct meaning of ‘Noble’ in the poem ‘At The Zoo’ is –

- a) that deserve shout
- b) that deserve praise
- c) that deserve criticise
- d) that deserve rejection.

(ii) Somu got a _____ on his birthday.

- a) bicycle
- b) pencil box
- c) canary
- d) robot

iii) “Don’t be afraid of me” – Who said this to Minu?

- a) dodo
- b) bear
- c) tiger
- d) Dino

B) State whether the following sentences are “True” or “False”.

(1×3=3)

- i) In the poem ‘At the Zoo’ penguins can’t understand the remarks made by human beings.
- ii) The dreadful thing was that Somu was ignoring Molly.
- iii) Minu, a ten years old girl, goes to see a circus.

C) Fill in the blanks with the words given in the box below.

(1×4=4)

stroked	eleven	zoo	extinct
----------------	---------------	------------	----------------

i) Ramesh was _____years old.

ii) Animals that have disappeared from the earth are known as _____ animals.

iii) Somu’s mother took Molly out of the cage carefully and _____her yellow feathers.

iv) Be careful what you say or do , when you visit the animals at the _____.

D) Answer the following questions in one word.

(1×4=4)

- i) Which animal thinks of himself to be as wise as human beings?
- ii) What was the name of the sparrow in the chapter 'The Canary'?
- iii) Who appeared before Ramesh when he was about to throw the garbage into the river?
- iv) Where did Minu see the dinosaur?

11. Answer the following questions briefly.

(6×2=12)

- a) Why shouldn't we make fun of the camel's hump?
- b) Why was Molly in tears?
- c) What did Somu's mother do after she took Molly out of the cage?
- d) What might happen to a person who drinks dirty water?
- e) Why do men kill animals?
- f) How did the dinosaur in the museum look?

12. Answer the question briefly in 40-50 words.

(4)

How do we all knowingly or unknowingly contribute to water pollution? How can children help to stop water pollution?

D.A.V. INSTITUTIONS, WEST BENGAL ZONE
PERIODIC TEST 2/HALF YEARLY EXAMINATION
SESSION: 2022 – 2023

Class: III
Subject: HINDI

Maximum Marks: 80
Time: 2 Hours 30 Minutes

(खंड - क)

1. निम्नलिखित गद्यांश को पढ़कर पूछे गए प्रश्नों के उत्तर लिखिए -

एक गाँव में एक संपन्न आदमी रहता था जिसका नाम रामेश्वर था। उसके पास काफ़ी खेत थे, लेकिन वह बहुत लालची था। एक बार उसने अधिक ज़मीन पाने की इच्छा के बारे में एक साधु से चर्चा की। साधु ने रामेश्वर को एक मंत्र बताया और कहा, “इस मंत्र का जाप करने से तुम्हारी इच्छा अवश्य पूरी होगी।” एक दिन उसकी तपस्या से प्रसन्न होकर देवता प्रकट हुए और उसे वरदान माँगने को कहा। उसने कहा, “प्रभु, मुझे वरदान दीजिए कि गाँव में मेरे पास सबसे अधिक ज़मीन हो जाए।” देवता ने कहा, “सूर्यास्त होने के पहले दौड़कर तुम जितनी ज़मीन घेर लोगे, उतनी ज़मीन तुम्हारी हो जाएगी।” ज़मीन के लालच में आकर उसने दौड़ना शुरू किया। वह दौड़ता ही रहा। आखिरकार वह बेहोश होकर गिर पड़ा। लोगों ने उसे उठाया किंतु ज़मीन के लालच में आकर उसने अपनी जान गँवा दी।

- | | |
|---------------------------------------------------------------|---|
| क) रामेश्वर कैसा आदमी था? उसने साधु से किस बारे में चर्चा की? | 2 |
| ख) रामेश्वर ने देवता से वरदान माँगते हुए क्या कहा? | 2 |
| ग) देवता ने वरदान देते हुए रामेश्वर से क्या कहा? | 2 |
| घ) रामेश्वर बेहोश होकर क्यों गिर पड़ा? | 2 |
| ङ) रामेश्वर ने अपनी जान किस कारण गँवा दी? | 1 |
| च) उपर्युक्त गद्यांश का उचित शीर्षक लिखिए। | 1 |

(खंड - ख)

2. निम्नलिखित शब्दों के सही संबंध वाले विकल्प छाँटकर लिखिए - **1×5=5**

क) घोंसला : घोंसले :: डाली : ?

- | | | | |
|------------|-------------|--------------|---------|
| i) डालियाँ | ii) थालियाँ | iii) तालियाँ | iv) डाल |
|------------|-------------|--------------|---------|

ख) बस्ता : दोस्त :: प्याला : ?

- | | | | |
|----------|-----------|------------|-----------|
| i) मक्खी | ii) प्यास | iii) रस्सी | iv) ढक्कन |
|----------|-----------|------------|-----------|

ग) जंगल : मंगल :: हाथी : ?

- i) ककड़ी ii) गाती iii) साथी iv) लाठी

घ) लेखक : लेखिका :: ऊँट : ?

- i) शेरनी ii) हथिनी iii) मोरनी iv) ऊँटनी

ड) नीचे : ऊपर :: धूप : ?

- i) छाँव ii) नया iii) सूखा iv) कटु

3. निम्नलिखित प्रश्नों के उचित विकल्प चुनकर लिखिए -

1×2=2

क) 'वह हाथी की ताकत देखकर पहले तो हैरान हुआ।' प्रस्तुत वाक्य से संज्ञा शब्द का चयन कीजिए।

- i) वह ii) हाथी iii) हुआ iv) देखकर

ख) 'अगर पेड़ भी चलते होते।' प्रस्तुत वाक्य से काम वाले शब्द का चयन कीजिए।

- i) पेड़ ii) अगर iii) भी iv) चलते होते

4. निम्नलिखित कथनों को पढ़कर सही विकल्प वाले उत्तर छाँटकर लिखिए-

1×3=3

क) अभिकथन - 'नगर' शब्द का समान लय वाला शब्द 'डगर' है।

तर्क - दोनों शब्दों के अंतिम अक्षर का उच्चारण समान है।

i) अभिकथन और तर्क दोनों सही हैं क्योंकि तर्क अभिकथन की सही व्याख्या करता है।

ii) अभिकथन और तर्क दोनों गलत हैं क्योंकि तर्क अभिकथन की सही व्याख्या करता है।

iii) अभिकथन गलत है परंतु तर्क सही है।

iv) अभिकथन सही है परंतु तर्क गलत है।

ख) अभिकथन - 'पूरी' शब्द का बहुवचन रूप 'पूरियाँ' हैं।

तर्क - बहुवचन से एक से अधिक होने का बोध होता है।

i) अभिकथन और तर्क दोनों सही हैं क्योंकि तर्क अभिकथन की सही व्याख्या करता है।

ii) अभिकथन और तर्क दोनों गलत हैं क्योंकि तर्क अभिकथन की सही व्याख्या करता है।

iii) अभिकथन गलत है परंतु तर्क सही है।

iv) अभिकथन सही है परंतु तर्क गलत है।

ग) अभिकथन - 'सरदी' शब्द का विलोम शब्द 'गरमी' है।

तर्क - विलोम शब्द को समान अर्थ वाले शब्द कहते हैं।

i) अभिकथन और तर्क दोनों सही हैं क्योंकि तर्क अभिकथन की सही व्याख्या करता है।

ii) अभिकथन और तर्क दोनों सही हैं क्योंकि तर्क अभिकथन की सही व्याख्या नहीं करता है।

iii) अभिकथन गलत है परंतु तर्क सही है।

iv) अभिकथन सही है परंतु तर्क गलत है।

5. निम्नलिखित वाक्यों को सही शब्द से पूरा कीजिए -

1×2=2

क) मक्खी को परेशान देखकर लोमड़ी ----- मुसकराने लगी।
(मंद- मंद/ ज़ोर- ज़ोर)

ख) दादाजी बच्चों को देखकर बहुत ----- हुए। (नाराज़ / खुश)

6. दिए गए चित्रों को पहचानकर पूछे गए प्रश्नों के सही उत्तर लिखिए -

1×2=2

क) चित्र देखकर चंद्रबिंदु (ँ) वाला एक शब्द लिखिए -



ख) चित्र देखकर 'इ' अक्षर वाला एक शब्द लिखिए -



7. स्तंभ (अ) वाले शब्दों को स्तंभ (ब) में दिए गए उचित विलोम शब्दों के साथ मिलाकर लिखिए-

1×3=3

स्तंभ (अ)	स्तंभ (ब)
क) एक	i) सुबह
ख) शाम	ii) आसान
ग) मुश्किल	iii) अनेक

8. निम्नलिखित कथनों को पढ़कर सही या गलत लिखिए - 1×3=3
- क) 'अम्मा' शब्द में 'म्' संयुक्त व्यंजन है।
- ख) 'फल' क्रिया शब्द है।
- ग) 'शेर' शब्द का अर्थ 'सिंह' भी होता है।

(खंड - ग)

9. निम्नलिखित प्रश्नों के उत्तर (15 - 20 शब्दों में) लिखिए - 2×3=6
- क) कौवे ने अपनी प्यास कैसे बुझाई?
- ख) अगर पेड़ भी चलते होते तो क्या - क्या होता?
- ग) कौवा कहाँ - कहाँ और क्यों भटक रहा था?
10. निम्नलिखित प्रश्न का उत्तर (40 - 50 शब्दों में) लिखिए - 4
- 'अगर पेड़ भी चलते होते' कविता में कवि को पेड़ पर चढ़ने, सैर करने में मज़ा आता है। आपको किन - किन कामों को करने में मज़ा आता है?
11. निम्नलिखित प्रश्नों के उत्तर (15 - 20 शब्दों में) लिखिए - 2×3=6
- क) चिड़िया के मुँह से पत्ता बार - बार क्यों गिर जाता था?
- ख) लोमड़ी ने घमंडी मकखी को कैसे सबक सिखाया?
- ग) पहले वाला लड़का नाराज़ क्यों हो गया था?
12. निम्नलिखित प्रश्नों के उत्तर (25 - 30 शब्दों में) लिखिए - 3×2=6
- क) 'हाथी और चिड़िया' पाठ के आधार पर हाथी और चिड़िया में तीन अंतर लिखिए।
- ख) पुलिस द्वारा दीपक की पीठ थपथपाने का क्या कारण रहा होगा?
13. निम्नलिखित गद्यांश को पढ़कर पूछे गए प्रश्नों के उत्तर लिखिए -
- एक दिन सुबह अज़ान की आवाज़ नहीं आई। गाँव में सब हैरान थे। सोनाली भी परेशान हो गई। आज क्या हो गया? अज़ान की आवाज़ नहीं आई। कहीं दादाजी बीमार तो नहीं हो गए? सोनाली को दादाजी की चिंता होने लगी। उसने सोचा, "मस्जिद जाकर देखती हूँ। लेकिन दादाजी के पास खाली हाथ जाना भी ठीक नहीं है। उनके लिए कोई भेंट ले जाना ठीक रहेगा। क्या ले जाऊँ? हाँ, अखरोट ले जाती हूँ।"
- क) प्रस्तुत गद्यांश किस पाठ से लिया गया है? 1
- ख) सोनाली को किसकी चिंता होने लगी? 1
- ग) सुबह किसकी आवाज़ नहीं आई? 1

14. निम्नलिखित प्रश्न का उत्तर (50 - 60 शब्दों में) लिखिए - 5

रोहित स्वभाव से हठी और झगड़ालू था। वह बिना बात के झगड़ा भी करता था। अगर आपसे कोई बिना बात के ही झगड़ा करे तो आपको कैसा लगेगा और आप उस समय क्या करेंगे?

(खंड - घ)

15. किसी एक विषय पर अनुच्छेद (60 - 80 शब्दों में) लिखिए - 5

क) प्रिय त्योहार

ख) पेड़ - पौधों का महत्त्व

ग) मेरी प्रिय पुस्तक


16. तीन दिनों के अवकाश हेतु अपने विद्यालय के प्राचार्य को प्रार्थना पत्र लिखिए। 5

अथवा

जन्मदिन पर मामाजी ने आपके लिए उपहार भेजा है इसलिए उन्हें धन्यवाद देते हुए पत्र लिखिए।

17. अपने पसंदीदा खिलौने के बारे में दो दोस्तों / सहेलियों के बीच हुए संवाद को (60 - 80 शब्दों में) लिखिए। 5

18. दिए गए चित्र का वर्णन लगभग (60 - 80 शब्दों में) कीजिए - 5



D.A.V. INSTITUTIONS, WEST BENGAL ZONE
PERIODIC TEST 2/HALF YEARLY EXAMINATION
SESSION:2022-2023

Class: III

Subject: Mathematics

Maximum Marks:80

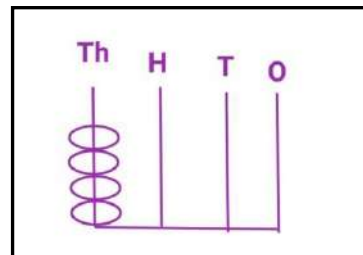
Time: 2Hours 30Minutes

Section - A

1. The numeral for $7000+200+4$ is _____. (1)
2. $13 + \underline{\hspace{1cm}} = 25 + \underline{\hspace{1cm}}$ (1)
3. _____ is repeated addition. (1)
4. $8 \times 3000 = \boxed{\hspace{2cm}}$ (1)
5. We cannot divide any number by ____ (1)
6. Write the time 10 minutes to 4 in numbers. (1)
7. Sleeping at night 2 O' Clock is 2:00 _____ (write a.m./p.m.) (1)
8. If you are 8 years old now then after 8 years what will be your age? (1)

Section B

9. Rewrite the numbers in descending order: (2)
8974, 894, 8924, 847, 8794
10. What number does the abacus show? (2)
Also write the predecessor of it.



11. Subtract smallest 2-digits number from smallest 3-digits number. (2)
12. Write two division facts for $16 \times 6 = 96$ (2)
13. At 6:40, the hour hand of the clock is between _____ and _____ and the minute hand is at _____. (2)
14. Name the months which have 30 days. (2)

Section C

15. Write the 4-digit smallest and greatest number using the digits 8,1,5 and 0 only once. (3)
16. Subtract : $3000 - 851$ (3)
17. Find the product of : 275×29 (3)
18. Divide using the repeated subtraction: 27 by 9 (3)
19. If dividend = 65, divisor =13, find the quotient. Also write the division fact for this. (3)

Section D

20. Arrange in columns and add the following numbers: 6759, 703, 8502 (4)
21. Subtract and check your answer: $4901 - 1853$ (4)
22. There are 26 chairs in each row in a hall. How many chairs are there in 18 rows in the hall? (4)
23. Convert into minutes: 12 hours 55 minutes (4)
24. Draw a clock showing the time 9:40. Write the time in words. (4)

Section E

25. There are 3129 men, 2831 women and 772 children in a town. What is the total population of the town? (5)
26. Mrs. Kapoor went for shopping with ₹9570. She spent ₹7255 in the market. How much money is left with her? (5)
27. There are 35 laddoos in a sweet box. How many laddoos are there in 112 sweet boxes? (5)
28. A packet contains 6 pens. How many packets are required to pack 852 pens? (5)
29. Rahul try to help the street children. For that he collected ₹1032 from his family members and ₹2752 from his school. He will buy some pen, pencils, pencil boxes for them and will distribute among them. (5)
- a) How much money did Rahul collect?
 - b) Which value is reflected by Rahul?
 - c) Write any one way in which you can help someone.

D.A.V. INSTITUTIONS, WEST BENGAL ZONE

PERIODIC TEST - II / HALF YEARLY EXAMINATION

SESSION 2022-2023

Class : III

Subject : SCIENCE

Maximum Marks : 80

Time : 2 Hr 30 minutes

Q. No.	Marks
1. Choose the correct answer from the given options:	(1×10 =10)
a) Our _____ help us to listen and recognize various sounds. i) nose ii) tongue iii) ears iv) skin	
b) Herbs live for _____. i) four years ii) one season iii) ten years iv) one month	
c) _____ helps plants and crops grow better. i) Sugar ii) Salt iii) Pepper iv) Compost	
d) Efforts need to be made to protect forests from _____. i) fires ii) rain iii) air iv) animals	
e) Which among these are aquatic animals? i) Fish ii) Sea horse iii) Trout iv) All of them	
f) The part of a plant that stores seed is known as- i) fruit ii) branch iii) root iv) stem	
g) Spinach is used as- i) medicine ii) aroma iii) vegetable iv) decoration	
h) An animal that lives in plains is- i) octopus ii) eel iii) shark iv) donkey	
i) Ginger and garlic are used to make _____. i) fibre ii) wood iii) medicine iv) sugar	
j) We taste with our- i) nose ii) tongue iii) eyes iv) skin	

2. Fill in the blanks with appropriate words:

(1×10 =10)

- a) Tongue helps us to find out various _____ present in different food items.
- b) _____ fixes the plant in the soil.
- c) Leaves of plants are not _____ .
- d) We depend on plants for our _____ necessities.
- e) Different animals live in different _____.
- f) _____ daily to keep your skin clean.
- g) Climbers need _____ to climb up.
- h) When the leaves become old the plants _____ them off.
- i) People who cut down trees should be _____.
- j) _____ easily learn to perform tricks and play games.

3. Correct the sentences:

(1×5 = 5)

- a) Mustard leaves are good for eye sight.
- b) The largest organ of our body is tongue.
- c) Herbs can live for more than 5 years.
- d) Kangaroo has thick fur on its body.
- e) Plants give out oxygen during night.

4. Match the columns:

(1×5 = 5)

Column A

- a) Meditation
- b) Wood
- c) Deer
- d) Bougainvillea
- e) Temple carving

Column B

- i) stem of plant
- ii) shy animal
- iii) staying calm and quiet
- iv) leaf design
- v) shrub

5. Define the following terms:

(2×3 = 6)

- a) Sense organs
- b) Deforestation
- c) Garnish

6. Differentiate between:

(2×2 = 4)


- a) Pumpkin plant and grape vine
- b) Terrestrial animals and aquatic animals

7. Answer in brief:

(2×5= 10)

- a) State the functions of stem.
- b) Why do plants act as air purifier?
- c) What does eyes help us to do?

d) Where do this animal live? Is it a shy or playful animal?



e) Identify the leaf and write two uses of it.



8. Answer the following:

(4×5 =20)

- a) i) Why do we say leaf is an important part of a plant?
ii) Name any two articles where we can find leaf designs.
- b) Write four measures that can be taken to conserve forests.
- c) Riya and Ishika are going for summer vacation. Riya will be going to Puri to see the ocean. Ishika will be in their village, there she can see many ponds. Name two animals noticed by Riya and Ishika.
- d) Give an example of tree and write any three features of that tree.
- e) Identify the animal and state three special features of it.



9. Draw and label:

- a) Draw the diagram of human tongue and label it. **5**
- b) Draw one edible and one non-edible thing that you get from plants **(4+1) = 5**
and name them.
Draw an item that is used to make furniture.

D.A.V. INSTITUTIONS, WEST BENGAL ZONE
PERIODIC TEST -2 / HALF YEARLY EXAMINATION
SESSION: 2022-2023

Class: III
Subject: Social Science

Maximum Marks: 80
Time: 2Hours 30Minutes

1. Choose the correct option from the given alternatives: **(1×5=5)**

- a. Your maternal grandparents are your _____.
i) mother's parents ii) father's parents iii) cousins' parents iv) none of these
- b. Sunita Williams is a famous _____.
i) Sport person ii) Astronaut iii) Singer iv) Musician
- c. The food speciality of West Bengal is _____.
i) Dal-batti-churma ii) Fish & Rice iii) Gostaba iv) Dosa-sambhar
- d. The occupation that requires special training _____.
i) Scientist ii) Fruit vendor iii) Milkman iv) Carpenter
- e. Many people do not send their children to school as they do not understand the importance of _____.
i) education ii) home iii) family iv) money

2. Fill in the blanks: **(1×5=5)**

- i) Vishu learnt to make _____ from his grandmother.
ii) The most important feature of Indian cooking is the use of _____.
iii) The Early Man threw _____ from a distance with a force to kill animals.
iv) _____ is known as the Metro man.
v) Dr. Kalam sold _____ to continue his education.

3. State whether True or False: **(1×5=5)**

- i) Sharma is the surname of Vishu's father.
ii) All family members have similar voice.
iii) The culture and tradition of an area affect our dress.
iv) The hunter and food gatherer became a food producer.
v) Sarathbabu set up Food King Catering Service.

4. Match the following: **(1×5=5)**

Column A	Column B
i) A family is two or more people who are	a) often resemble each other
ii) Members of family	b) cooked food
iii) Rajasthan	c) connected by love or kinship
iv) Discovery of fire	d) Queen of sleep
v) Lullaby	e) ghagra-choli

5. Write any two features of a family. (2)
6. What do you mean by Identical Twins? (2)
7. What was the duration of Sunita's journey to the space? How did her relatives in India express their feelings? (2)
8. Suresh lives in Rajasthan where people find it difficult to grow vegetables. Why is it so? What do people eat there? (2)
9. Name any two dry fruits. (2)
10. Identify the dances given in the picture- (2)



i)..... ii).....

11. Mention the two ways through which early man improved the stone tools. (2)
12. Name two household chores that you learnt from your mother or father. (2)
13. Write any two harmful effects of chemicals used in factories that causes health problems among children. (2)
14. Examine the problems which are created if the size of a family is large. (2)
15. How does Vishu's grandmother help the poor women? (3)
16. Illustrate three different ways in which you are similar to your family members. (3)
17. Why it is important not to waste food, water and electricity? Write one points for each. (3)
18. Discuss in what ways the dressing habit of the people of Kerala and Tamil Nadu is different from that of Kashmir and Himachal Pradesh. (3)
19. State the three keywords that you learn from Mr. Sreedharan and his team. (3)
20. Identify the picture of given famous personality. Write four sentences about him. (5)



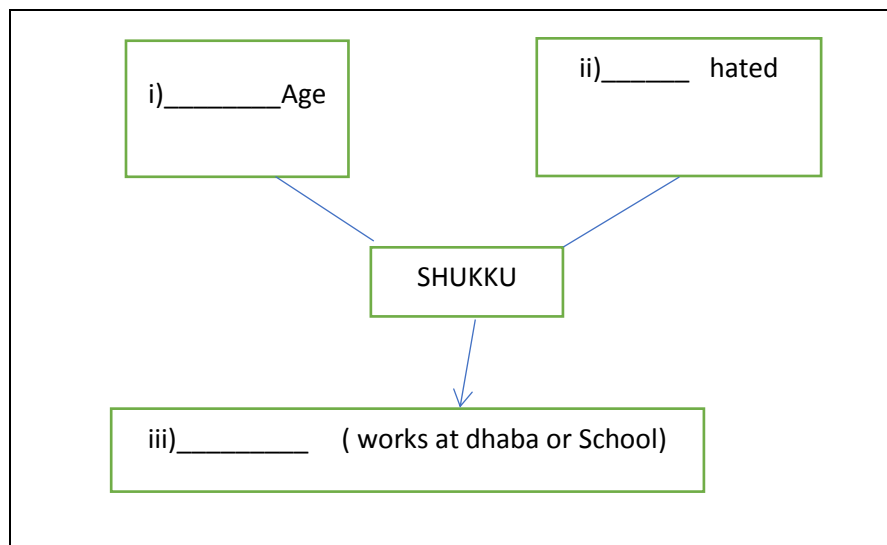
21.List the two ways in which the discovery of fire helped early man. State the three changes that occurred in the life of early man when he became a food producer. (5)

22. List the two different ways in which education and training can help a person in occupation. Why has our government banned the employment of children under the age of 14 years? (5)

23.Name two occupations related with following civic amenities: (2)

- a. Electricity
- b. School

24.According to Shukku's story complete this given flowchart: (3)



25.Label and colour the given places on the political map of India (1×5=5)

- a. The state, where Sunita William's relative live.
- b. Punjab
- c. Telangana
- d. One Eastern state
- e. One neighbouring state of Tamil Nadu
