

D.A.V. INSTITUTIONS, WEST BENGAL ZONE
PERIODIC TEST 2/ HALF YEARLY EXAMINATION
SESSION: 2024-2025

Class: IV

Subject: Bengali

Maximum Marks: 80

Time: 2 Hours 30 Minutes

নির্দেশিকা: ক) এই প্রশ্নপত্রে চারটি বিভাগ আছে।

খ) এই প্রশ্নপত্রে মোট ১৭ টি প্রশ্ন আছে।

বিভাগ- ক

1. নিচের অনুচ্ছেদটি পড়ে প্রদত্ত প্রশ্নগুলির সঠিক উত্তরটি বেছে নিয়ে লেখো: (1×10=10)

স্পুটনিক ছিল বিশ্বের প্রথম কৃত্রিম উপগ্রহ বা স্যাটেলাইট। প্রথম মহাকাশ যাত্রার গৌরব লাভ করেছিল একটি কুকুর, নাম লাইকা। এরপর পাঠানো হয় দুটি বানরকে। তারপর একদিন এক অসমসাহসী মানুষকে পাঠানো হয় মহাকাশচারী হিসেবে। ইতিহাসে অমর সেই ব্যক্তির নাম ইউরি গ্যাগারিন। ইনি জাতিতে রুশ। মহাকাশ যানটির নাম ছিল ভস্তুক। গ্যাগারিনের পরে আরও অনেক সাহসী মানুষ মহাকাশ ঘুরে এসেছেন। এদের মধ্যে প্রথম মহিলা মহাকাশচারী ছিলেন তেরেস্কোভা নামে এক রুশ নারী। ভারতীয় প্রথম পুরুষ মহাকাশচারী ছিলেন রাকেশ শর্মা আর প্রথম মহিলা মহাকাশচারী ছিলেন কল্পনা চাওলা।

ক) প্রথম ভারতীয় পুরুষ মহাকাশচারী ছিলেন -

i) রাজেশ শর্মা ii) রাকেশ শর্মা iii) রোহিত শর্মা iv) লোহিত শর্মা

খ) মানুষের তৈরি প্রথম উপগ্রহ বা স্যাটেলাইটের নাম হল -

i) স্পুটনিক ii) স্পিটনিক iii) স্পিটনুক iv) স্পুটনকি

গ) মহাকাশে প্রথম যে প্রাণীটি গিয়েছিল সেটি একটি -

i) বানর ii) বিড়াল iii) কুকুর iv) ঈগল

ঘ) প্রথম মহাকাশচারী ছিলেন -

i) অলড্রিন ii) তেরেস্কোভা iii) নীল আর্মস্ট্রং iv) ইউরি গ্যাগারিন

ঙ) তেরেস্কোভা ছিলেন _____ মহিলা মহাকাশচারী।

i) প্রথম ii) দ্বিতীয় iii) তৃতীয় iv) চতুর্থ

চ) ইউরি গ্যাগারিন জাতিতে ছিলেন -

i) চিনা ii) রুশ iii) মিশরীয় iv) জাপানি

ছ) একজন ভারতীয় মহিলা মহাকাশচারী ছিলেন -

i) আল্পনা গোলে ii) জুহি চাওলা iii) কল্পনা চাওলা iv) মাহি শর্মা

জ) গ্যাগারিনের মহাকাশ যানটির নাম ছিল -

i) ভস্তুক ii) স্পুটনিক iii) ভয়েজার iv) আর্যভট্ট

ঝ) 'অসমসাহসী' কথাটির অর্থ হল -

i) খুব বুদ্ধিমান ii) কম সাহসী iii) খুব বেশি সাহসী iv) খুব শক্তিশালী

ঞ) 'লাভ' শব্দটির বিপরীতার্থক শব্দ হল -

i) ডাব ii) ক্ষতি iii) ভালো iv) নিন্দা

বিভাগ - খ

2. অনুচ্ছেদ রচনা করো: (যে কোনো একটি)

(5×1=5)

ক) প্রচণ্ড গরমে শরীর হাঁসফাঁস করলেও ঝুড়ি ভরা আম, জাম, লিচু পেয়ে প্রাণ জুড়ায়।
লোভনীয় শরবত, আইসক্রিম বেশ স্বস্তি দেয়। বাংলায় যে ঋতুতে এগুলি হয় সেই ঋতু
সম্বন্ধে একটি অনুচ্ছেদ লেখো।

অথবা

খ) পরিচ্ছন্নতা

3. পত্র রচনা করো: (যে কোনো একটি)

(5×1=5)

ক) বর্ষাকাল শেষ হয়ে গেলেও বৃষ্টি পড়া এখনও থামেনি। সারাদিন বৃষ্টি হয়েই চলেছে।
এমন একটি বর্ষণমুখর দিন তুমি কীভাবে কাটাতে চাও তা জানিয়ে বন্ধুকে একটি পত্র
লেখো।

অথবা

খ) গাছের প্রয়োজনীয়তার কথা জানিয়ে তোমার বন্ধুকে একটি পত্র লেখো।

বিভাগ- গ

4. বাম দিকের বিপরীতার্থক শব্দগুলির সঙ্গে ডান দিকের শব্দগুলি মেলাও:

(1×5=5)

বাম দিক	ডান দিক
ক) আকর্ষণ	i) পূর্ণ
খ) শাস্তি	ii) নিকৃষ্ট
গ) বিশ্রাম	iii) বিকর্ষণ
ঘ) উৎকৃষ্ট	iv) পুরস্কার
ঙ) শূন্য	v) পরিশ্রম

5. নিচের রেখাঙ্কিত পদগুলি কোন্ পদ ও কী জাতীয় তা লেখো:

(1×5=5)

ক) বিশু বাবার সঙ্গে বাজারে গেছে।

খ) কোহলি খুব জোরে বল করেন।

গ) কাল তারা মেলায় গিয়েছিল।

ঘ) অমল এলে আমরা বেরবো।

ঙ) শরৎকালে কাশফুল ফোটে।

6. বন্ধনীর মধ্যে দেওয়া শব্দগুলির সঠিক বিপরীতার্থক শব্দ লিখে শূন্যস্থানে বসাতো:

(1×5=5)

ক) কাপড়গুলো এখনো ____ (শুকনো) আছে।

- খ) প্রচণ্ড বৃষ্টিতে আসামে _____ (খরা) হয়ে গেছে।
 গ) স্বামী বিবেকানন্দ একজন _____ (মূর্খ) মানুষ।
 ঘ) বৃষ্টি পড়লে বোসদের বাড়িতে _____ (নিরাশ্রয়) নেব।
 ঙ) পাড়ার সবাই অমল বাবুর _____ (নিন্দা) করে।

7. শূন্যস্থান পূরণ করো:

(1×5=5)

- ক) নাম পদের সঙ্গে যে বিভক্তিগুলি যুক্ত হয় তাদের বলে _____ বিভক্তি।
 খ) কোনো কাজের নাম বোঝালে হয় _____ বিশেষ্য পদ।
 গ) কোনো কাজ করা, হওয়া বা থাকা বোঝালে হয় _____ পদ।
 ঘ) বিভক্তি, লিঙ্গ, বচন ভেদে পরিবর্তন হয় না _____ পদের।
 ঙ) নামপদকে _____ ভাগে ভাগ করা হয়।

বিভাগ- ঘ

8. নিচের বাক্যগুলির ভুল সংশোধন করো:

(1×4=4)

- ক) সামনে চেয়ে পিছিয়ে চলো- ভয় পেয়ো না বাদলাতে।
 খ) পিঠের 'পরে' বসিয়ে দাদা বলেন কানে কানে।
 গ) মেয়ে পাখিটি তীর খেয়ে মারা গিয়েছিল।
 ঘ) লেখকের স্কুলটি শুরু হত ঠিক আটটায়।

9. সত্য/মিথ্যা লেখো:

(1×4=4)

- ক) 'চলার গান' কবিতাটি লিখেছেন কবি রবীন্দ্রনাথ ঠাকুর।
 খ) আকালের বছর রাখালের জন্ম হয়েছিল।
 গ) যমুনা নদীর ধারে দুটি বক খেলা করছিল।
 ঘ) স্কুলে যাওয়ার জন্য লেখকের খুব আনন্দ হচ্ছিল।

10. শূন্যস্থান পূরণ করো:

(1×2=2)

- ক) টেনে নিয়ে গেল তাকে _____ কাছে
 খ) ধাক্কা দিয়ে তারায় তারায়
 _____ গিয়ে ঠেকব রে!

11. অর্থ লেখো:

(1×2=2)

- ক) উপস্থিত খ) যুগল

12. বিপরীত শব্দ লেখো:

(1×2=2)

- ক) স্বর্গ খ) দুর্ভাগ্য

13. নিচের প্রশ্নগুলির পূর্ণ বাক্যে উত্তর দাও:

(1×6=6)

- ক) বাল্মীকি মুনির শিষ্যের নাম কী ছিল?
 খ) কে পাখিদুটির দিকে তীর ছুঁড়েছিল?
 গ) মিশনারি স্কুলে ভারতীয়দের আসন সংখ্যা কত ছিল?

- ঘ) ‘আমাদের স্কুল’ গদ্যাংশটি কার লেখা?
ঙ) ‘মাকাল’ কবিতায় রাখালকে কে সোনা বলে ডাকতেন?
চ) ‘চলার গান’ কবিতায় কোন্ জিনিস ঘামবে কিন্তু গলবে না?

14. নিচের প্রশ্নগুলির যথাযথ উত্তর লেখো:

(2×2=4)

- ক) বান্দীকির মুখে শ্লোক শুনে ব্রহ্মা কী বলেছিলেন?
খ) “বিঁধছে কাঁটা? ফুটছে কাঁকর?/ ফুটুক, তবু ছুটব হে –” ‘চলার গান’ কবিতায় কবি একথা কেন বলেছেন, তুমি নিজের ভাষায় বুঝিয়ে লেখো।

15. নিচের প্রশ্নগুলির উত্তর দাও:

(3×2=6)

- ক) “তুমি শেষে বলতে কি চাও, গাল ফলেছে গাছে।”- অংশটি কোথা থেকে নেওয়া হয়েছে এবং উক্তিটির মধ্যে দিয়ে বক্তা কী বোঝাতে চেয়েছে তা লেখো।
খ) “ইহা এক অস্বস্তিকর অনুভূতি।” – ‘আমাদের স্কুল’ গদ্যাংশে যে অনুভূতিটিকে অস্বস্তিকর বলা হয়েছে তা নিজের ভাষায় লেখো।

16. নিচের প্রশ্নগুলির পূর্ণবাক্যে উত্তর লেখো:

(1×5=5)

- ক) গদাধরকে দক্ষিণেশ্বরের মন্দিরে সবাই কী বলে ডাকত?
খ) পরে গদাধর কী নামে বিখ্যাত হন?
গ) গদাধরের একজন শিষ্যের নাম লেখো।
ঘ) ‘প্রভাতের রবি’ গদ্যে ‘মামা’ কে?
ঙ) ‘বর্ণপরিচয়’ কার লেখা?

17. নিচের প্রশ্নগুলির উত্তর দাও:

- ক) রানিমা পুরুত ঠাকুরের অপরাধ নিতে পারলেন না কেন ?
খ) রবীন্দ্রনাথ ঠাকুর ইংরেজদের দেওয়া কোন্ উপাধি কী কারণে ত্যাগ করেছিলেন?

(2)

(3)

D.A.V. INSTITUTIONS, WEST BENGAL ZONE
PERIODIC TEST 2/HALF YEARLY EXAMINATION
SESSION: 2024-2025

Class: IV

Subject: English

Maximum Marks: 80

Time: 2 Hours 30 Minutes

General Instructions:

1. This paper consists of four sections: A, B, C and D.
2. Attempt all questions.
3. Read each question carefully and follow the instructions.

SECTION A: READING SKILL (10 MARKS)

1. A. Read the passage carefully and answer the questions that follow :-

Playland was like no other country in the world. The population consisted of children. The oldest was 14 and the youngest was 8 years old. Children were allowed to cycle, play or ride on wooden horses. There was so much noise and confusion that no one could really hear what the other was saying.

Pinoo thought that it was the most beautiful life, with no school, no studies and no teachers to scold. He spent five happy months in Playland, without ever seeing a book.

But one day Pinoo woke up and had a very unpleasant surprise. What a surprise it was! He noticed that his ears had grown as long as a broom during the night. He worriedly rushed to the mirror and saw that he had a magnificent pair of donkey's ears! He now remembered all the warnings given to him by his father. Children who dislike books, schools and teachers, and who spend all their time with toys, must end up becoming donkeys.

- i) What all were the children allowed to do in Playland? (1)
- ii) How long did Pinoo live in Playland? (1)
- iii) Find out the word from the passage which means 'extremely beautiful and elaborate'. (1)
- iv) What warning did Pinoo's father give him? (2)

B. Read the passage carefully and answer the following questions :-

Ants are insects that we find everywhere. They may be in your home, under your school desk, in the bathroom or in the grass during a picnic. There are more than 12,000 types of ants all around the world.

In a colony there are three types of ants. These are the queen, the males and the female workers. A colony can also have more than one queen. The male ants and the queen both have wings, but the workers don't. Soldier ants protect the queen ant and the colony. They also collect food and take care of the colony.

The job of the queen ant is to lay eggs for the rest of her life. Some queen ants can live up to several years and have million babies! When the queen of the ant colony dies, the colony does not survive for long.

Ants don't have ears; they listen to the vibrations through their little feet. Ants breathe through tiny holes in their entire body because they don't have lungs like human beings. When ants are looking for food, they leave chemical trails so that they know where they all have already been.

Did you know that an ant can lift 20 times its own weight? This means that if a second grade student was an ant, they would be able to pick up a car!

- i) What is the job of the queen ant? (1)
- ii) How much weight can an ant lift? (1)
- iii) Find out the word from the passage which is the antonym of the word 'lose'. (1)
- iv) Write down any two special qualities of ants. (2)

SECTION B: WRITING SKILL (20 MARKS)

2. Exotic Travels is offering an exciting vacation package of 5 nights and 6 days to Andaman Islands at reasonable price. Design a Travel Ad on behalf of Exotic Travels in about 50 words. (4)
3. Suppose you are **Zara/ Zakir** living in Pune. Your friend **Radha/ Rohan** has won a gold medal in the State English Essay Writing Competition. Write a letter to congratulate her/ him. (8)

OR

Imagine that you are **Mehul Sharma/ Meena Sharma**. You reside in Jammu and Kashmir. It was the first snowfall after the onset of winter. Enter a page in your diary sharing the experience.

4. Write a paragraph on the topic '**Health is Wealth**'. (8)

SECTION C: GRAMMAR (20 MARKS)

5. Fill in the blanks with suitable collective nouns from the brackets: - (1×2=2)
 - a) The _____ of soldiers marched forward to the battlefield. (army/cloud)
 - b) The cowboy saw a huge _____ of cattle. (class/herd)
6. Change the genders of the underlined nouns in the given sentences: - (1×2=2)
 - a) Rohan drew the picture of a gander.
 - b) The countess has ordered the court members to perform the job properly.
7. Choose the correct pronouns from the brackets to fill in the blanks: - (1×4=4)
 - a) The house on the left is _____. (their/ ours/ him)
 - b) There's Jade's watch. Could _____ pass it to me? (you/ his/ my)
 - c) I saw your sister's paintings yesterday. _____ were very good. (She/ They/ It)
 - d) I am sorry but this seat is _____. (my/ their/ mine)

8. Look at the given picture of the room carefully and fill in the blanks with correct prepositions given in brackets: - (1×4=4)



- a) There is a teddy bear _____ the dresser. (in/on)
- b) There is a cat _____ the bed. (beside/ near)
- c) There is a guitar _____ the bed and the dresser. (among/between)
- d) There is a stool _____ the table. (in front of / under)

9. Identify the adjectives in the given sentences and mention their kinds (quality, number, quantity): - (1×4=4)

- a) I have five fingers in my right hand.
- b) The selfish giant did not allow the children to enter his garden.
- c) The family did not have enough food for the winter.
- d) Sheema cooks delicious food.

10. Choose the correct determiners from the brackets and fill in the blanks: - (1×4=4)

- a) _____ of my colleagues are going on a trip. (Much/Any/Some)
- b) We need to do _____ work before the event starts. (few/any/a lot of)
- c) Though Chinese is a difficult language, _____ students opted for it. (any/many/much)
- d) I need to ask _____ questions to my teacher. (a little/a few/any)

SECTION D: LITERATURE (30 MARKS)

- 11.A. Choose the correct options to answer the questions below: (1×4=4)

- a) The character trait Rahul displayed when he defeated Raj unfairly is -
(i) honesty (ii) jealousy (iii) kindness (iv) generosity
- b) Assertion (A): Mr. Narayan Masuvekar was Sunil Gavaskar's uncle.
Reasoning (R): Sunil Gavaskar has a hole near the top of his left ear-lobe.
(i) A is true but R is false (ii) R is true but A is false
(iii) Both A and R are true and R is the correct explanation of A.
(iv) Both A and R are true but R is not the correct explanation of A.
- c) Where would the speaker of the poem 'Travel Plans' choose to go?
(i) deep in the jungle (ii) deep in the snow
(iii) deep in the ocean (iv) pouch of a kangaroo
- d) How did the narrator feel about his trip in the 'Jungle Safari'?
(i) nervous (ii) excited
(iii) indifferent (iv) scared

B. State whether the following statements are 'True' or 'False': - **(1×3=3)**

- a) The narrator and his sister were highly disappointed about their journey.
- b) The poet would find out if the North Pole was black.
- c) A frantic search was made for the misplaced nurses in the prose piece 'Mix-up at Birth'.

C. Fill in the blanks with suitable words: - **(1×4=4)**

- a) If the nature had not marked Sunil Gavaskar, then perhaps he would have grown up to be a fisher man working somewhere along the _____.
- b) Rahul was _____ of himself and cried bitterly.
- c) The poet wished to _____ on an ice cube.
- d) The narrator spotted a herd of _____ close to the lake waters.

D. Answer the following questions in one word each: - **(1×3=3)**

- a) What is the name of the autobiography of Sunil Gavaskar?
- b) Name the spell the poet wants to cast on himself to be tall.
- c) Which place did provide the setting for Rudyard Kipling's classic novel, 'The Jungle Book'?

12. Answer the following questions briefly: - **(2×6=12)**

- (a) 'His friends were proud of him but now Rahul was not happy'. Give reason why Rahul was not happy with reference to the prose piece, 'A True Friend'.
- (b) Describe Nan-Kaka's experience on his first visit to the hospital.
- (c) When did the mix-up occur according to Sunil Gavaskar in 'Mix-up at Birth'?
- (d) The poet has coined the term 'kangarooese' in 'Travel Plans'. Explain its reason.
- (e) How did the lake water turn from silver to golden in 'Jungle Safari'?
- (f) What left the narrator and his family amazed at the end of their exciting journey?

13. 'Raj helped Rahul in every way he could'. List any four qualities of Raj which made him a true friend of Rahul. **(4)**

D.A.V. INSTITUTIONS, WEST BENGAL ZONE
PERIODIC TEST- 2 / HALF YEARLY EXAMINATION
SESSION: 2024-2025

Class: IV
Subject: HINDI

Maximum Marks: 80
Time: 2 Hours 30 Minutes

सामान्य निर्देश :

- * इस प्रश्नपत्र में दो खंड हैं- खंड 'अ' और खंड 'ब'।
- * इस प्रश्नपत्र में कुल 6 पृष्ठ हैं, और प्रश्नों की संख्या 18 हैं।
- * दोनों खण्ड अनिवार्य हैं।
- * उत्तर पुस्तिका में उत्तर के साथ वही क्रम संख्या लिखिए जो प्रश्नपत्र में दी गयी है।

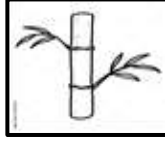
खंड -'अ'

1. प्रस्तुत गद्यांश को पढ़कर पूछे गए प्रश्नों के उत्तर लिखिए:-
- दिव्यांश बस्ता लिए स्कूल से घर लौट रहा था। उसे झाड़ियों के पास से कुछ आवाज़ सुनाई दी। उसने कुछ आगे बढ़कर देखा तो वहाँ एक घायल आदमी पड़ा कराह रहा था। दिव्यांश ने पल-भर सोचा, फिर वह तेज़ी से घर की ओर भागा। घर पहुँचकर उसने दादा जी को सारी बात बताई। दादा जी ने आस-पड़ोस के कुछ लोगों को साथ लिया, और घटनास्थल पर पहुँच गए। सबने मिलकर घायल व्यक्ति को गाड़ी में लिटाया, और अस्पताल ले गए। अब तक घायल व्यक्ति बेहोश हो चुका था। डॉक्टर ने दिव्यांश की पीठ थपथपाई और बोले, “शाबाश बेटा! तुमने ध्यान न दिया होता तो शायद इसकी जान न बच पाती।”

- | | |
|---|-----|
| क) दिव्यांश कहाँ से लौट रहा था? | (2) |
| ख) स्कूल से लौटते समय दिव्यांश ने क्या देखा? | (2) |
| ग) घायल व्यक्ति को देखकर दिव्यांश ने क्या किया? | (2) |
| घ) डॉक्टर ने दिव्यांश की पीठ क्यों थपथपाई? | (2) |
| ङ) सब लोग घायल व्यक्ति को कहाँ ले गए? | (2) |

2. निम्नलिखित शब्दों के उचित संबंध वाले विकल्प छाँटकर लिखिए:- (1×2=2)
- क) लेना : देना :: घूमना : ?
 i) खेलना ii) सोना iii) फिरना iv) गिरना
- ख) सुख : दुख :: अपने : ?
 i) जीवन ii) आस iii) पास iv) पराए
3. निम्नलिखित प्रश्नों के उचित विकल्प छाँटकर लिखिए:- (1×2=2)
- क) 'एक जोड़ी चप्पल खरीद लाओ।' प्रस्तुत वाक्य में संयुक्त व्यंजन वाला शब्द है-
 i) जोड़ी ii) चप्पल iii) एक iv) खरीद
- ख) 'रोहित अपने माता-पिता के साथ चंडीगढ़ में रहता था।' प्रस्तुत वाक्य में से युग्म शब्द छाँटकर लिखिए:-
 i) चंडीगढ़ ii) अपने iii) रोहित iv) माता-पिता
4. निम्नलिखित कथनों को पढ़कर सही विकल्प छाँटकर लिखिए:- (1×2=2)
- क) कथन : 'घर बड़ा है'- वाक्य में 'घर' शब्द संज्ञा है।
 कारण : काम वाले शब्दों को संज्ञा कहते हैं।
- i) कथन और कारण दोनों सही हैं, क्योंकि कारण कथन की सही व्याख्या करता है।
 ii) कथन और कारण दोनों सही हैं, परंतु कारण कथन की सही व्याख्या नहीं करता है।
 iii) कथन सही है, परंतु कारण ग़लत है।
 iv) कथन ग़लत है, परंतु कारण सही है।
- ख) कथन : 'खीर स्वादिष्ट' है'- वाक्य में 'स्वादिष्ट' शब्द विशेषण है।
 कारण : 'स्वादिष्ट' शब्द 'खीर' शब्द की विशेषता बता रहा है।
- i) कथन और कारण दोनों सही हैं, क्योंकि कारण कथन की सही व्याख्या करता है।
 ii) कथन और कारण दोनों सही हैं, परंतु कारण कथन की सही व्याख्या नहीं करता है।
 iii) कथन सही है, परंतु कारण ग़लत है।
 iv) कथन ग़लत है, परंतु कारण सही है।

5. निम्नलिखित वाक्यों में दिए गए खाली स्थान में सही शब्द लिखिए:- (1×2=2)
- क) मोर नाच रहा था, और _____ दाना चुग रही थी।
- ख) गाय घास खा रही थी, और _____ खड़ा था।
6. क) निम्नांकित चित्र के आधार पर अनुनासिक व्यंजन वाला एक शब्द लिखिए:- (1×2=2)



ख) निम्नांकित चित्र का बहुवचन रूप लिखिए:-



7. स्तंभ 'क' वाले शब्दों को स्तंभ 'ख' के समान अर्थ वाले शब्दों से मिलाकर लिखिए:- (1×4=4)

स्तंभ 'क'	स्तंभ 'ख'
क) सतर्क	i) खुशबू
ख) प्रसन्न	ii) दोस्ती
ग) मित्रता	iii) सावधान
घ) सुगंध	iv) खुश

8. निम्नलिखित कथनों को पढ़कर 'सही' या 'ग़लत' लिखिए:- (1×2=2)
- क) 'मक्खन' शब्द में 'कख' संयुक्त व्यंजन है।
- ख) 'पीठ थपथपाना' मुहावरे का अर्थ भाग जाना होता है।
9. निम्नलिखित प्रश्नों के सही विकल्प छाँटकर लिखिए:- (1×2=2)
- क) हलुआ मीठा बना था।- वाक्य में रेखांकित शब्द है-
- i) संज्ञा ii) विशेषण iii) क्रिया iv) सर्वनाम
- ख) 'काले बादल छा गए।' - वाक्य में रेखांकित शब्द क्या है?
- i) संज्ञा ii) सर्वनाम iii) क्रिया iv) विशेषण

10. निम्नलिखित प्रश्नों के उचित विकल्प छाँटकर लिखिए:- (1×2=2)
- क) 'मुँह में पानी आ जाना' मुहावरे का अर्थ है-
- i) बुराई करना ii) मज़ाक बनाना
iii) लालच करना iv) परिश्रम करना
- ख) माधव देख नहीं सकता था। उसने खीर कभी नहीं खाई थी।
रेखांकित सर्वनाम शब्द किसके लिए प्रयोग किया गया है?
- i) नहीं ii) देख iii) माधव iv) सकता
11. निम्नलिखित गद्यांश को पढ़कर पूछे गए प्रश्नों के उत्तर लिखिए:- (1×5=5)
- दादी अपना दुख किसी को नहीं बताती थीं। लेकिन रोहित उनका चेहरा देखकर भाँप जाता कि दादी दुखी हैं। उसकी बहन उसे 'दादी का चमचा' कहकर चिढ़ाती। रोहित भावुक होने के साथ-साथ पढ़ाई-लिखाई में भी बहुत अच्छा था। वह कक्षा में हमेशा प्रथम आता था। खेल-कूद तथा अन्य गतिविधियों में भी वह आगे रहता था। एक बार परीक्षा में उसके अच्छे अंक नहीं आए। उसके पिता ने उसे कुछ नहीं कहा बल्कि रोहित के कम अंकों के लिए दादी को ही ज़िम्मेदार ठहराया।
- क) प्रस्तुत गद्यांश किस पाठ से लिया गया है?
- i) मित्रता ii) उलटा-पुलटा iii) दादी का रेडियो iv) अनोखा ढंग
- ख) रोहित कैसे भाँप जाता था कि दादी दुखी हैं?
- i) आँख देखकर ii) नाक देखकर
iii) कान देखकर iv) चेहरा देखकर
- ग) कक्षा में रोहित की क्या स्थिति थी?
- i) वह कक्षा में प्रथम आता था। ii) वह कक्षा में द्वितीय आता था।
iii) वह कक्षा में तृतीय आता था। iv) वह कक्षा में चतुर्थ आता था।
- घ) रोहित के कम अंक आने पर पिता जी ने किसे ज़िम्मेदार ठहराया था?
- i) बहन को ii) माता को iii) दीदी को iv) दादी को
- ङ) रोहित की बहन उसे क्या कहकर बुलाती थी?
- i) दादी का चमचा ii) दादी का बेटा
iii) दादी का गमछा iv) दादी का पोता

12. निम्नलिखित काव्यबोध पर आधारित प्रश्नों के लिए सही विकल्प छाँटकर (1×5=5)

लिखिए:-

क) 'उलटा-पुलटा' कविता के आधार पर लिखिए कि निचली छत से कौन गिरता है?

- i) मकड़े ii) छिपकली iii) चींटी iv) बंदर

ख) 'पहली बारिश' कविता के आधार पर लिखिए कि कपड़े कहाँ पर लटक रहे थे?

- i) खिड़की ii) छत iii) दीवारों iv) रस्सी

ग) 'पहली बारिश' कविता के आधार पर लिखिए कि राशन लाने कौन गया था?

- i) अम्मा और दीदी ii) दादी iii) मामी iv) चाची

घ) 'पहली बारिश' कविता के आधार पर लिखिए कि खुतरू कौन है?

- i) माली ii) मोची iii) राजमिस्त्री iv) धोबी

ङ) 'उलटा-पुलटा' कविता के आधार लिखिए कि एकाएक कौन पलट जाते हैं?

- i) तिलचट्टे और चींटे ii) गाय और बैल
iii) बंदर और भालू iv) बिल्ली और चूहा

खंड - 'ब'

13. निम्नलिखित प्रश्नों के उत्तर (15-20 शब्दों में) लिखिए:- (2×4=8)

क) राहगीर महल के कीमती सामान को देखकर लालच में आकर चोरी करता है। क्या राहगीर का ऐसा करना सही था? आप राहगीर की जगह पर होते तो क्या करते?

ख) 'उलटा-पुलटा' अध्याय में भिन्न-भिन्न जीव अपने जीवन में आई कठिनाई का सामना करके जीवन में आगे बढ़ते हैं। आप अपने जीवन में आई कठिनाई का सामना कैसे करते हैं?

ग) 'अनोखा ढंग' अध्याय के आधार पर लिखिए कि अगर आप गांधी जी के स्थान पर होते तो क्या आप मनु को पत्थर लाने के लिए जुलाहे के घर भेजते? अपना विचार लिखिए।

घ) रोहित के माता-पिता का व्यवहार उसकी दादी के प्रति क्या सही था? आप रोहित के माता-पिता के स्थान पर होते तो क्या करते?

14. निम्नलिखित प्रश्नों के उत्तर (20-25 शब्दों में) लिखिए:- (3×4=12)

क) सुप्पंदी का गरम तवे पर चप्पलों को रखना सही था या ग़लत? कारण सहित उत्तर लिखिए।

ख) क्या आप कहीं भोज खाने गए थे? वहाँ आपको कौन-सा भोजन पसंद आया और क्यों?

ग) 'पहली बारिश' कविता के आधार पर बारिश होने के पहले और बारिश होने के बाद के दृश्य में से आपको कौन-सा दृश्य पसंद है, और क्यों?

घ) "सच्चे मित्र की पहचान कठिन समय में ही होती है।"- 'मित्रता' अध्याय के आधार पर उत्तर लिखिए।

15. किसी एक विषय पर (60 शब्दों में) अनुच्छेद लिखिए:- (5)

क) समय का महत्त्व ख) मेरा प्यारा देश ग) मेरे जीवन का लक्ष्य

16. अपनी बड़ी दीदी की शादी के लिए चार दिन के अवकाश हेतु प्राचार्य को (60 शब्दों में) पत्र लिखिए। (5)

अथवा

'व्यायाम का महत्त्व' बताते हुए अपने छोटे भाई को (60 शब्दों में) पत्र लिखिए।

17. दो मित्रों के बीच 'परीक्षा की तैयारी'- विषय पर हुई बातचीत को संवाद के रूप में (50 शब्दों में) लिखिए। (5)

18. प्रस्तुत चित्र का वर्णन (60 शब्दों में) कीजिए। (5)



D.A.V. INSTITUTIONS, WEST BENGAL ZONE
PERIODIC TEST- 2/HALF YEARLY EXAMINATION
SESSION: 2024 -2025

Class: IV

Subject: Mathematics

Maximum Marks: 80

Time: 2 Hours 30 Minutes

General instructions:

1. This question paper consists of 29 questions divided into 5 sections A, B, C, D and E .
2. All questions are compulsory.

SECTION - A

1. Write the standard form of $3 \times 1,000 + 4 \times 100 + 9 \times 10 + 8 \times 1$. (1)
2. Fill in the blanks: $71 \times 0 \times 37 =$ _____. (1)
3. If Divisor =7, Remainder =3, Quotient = 4 then, Dividend = _____. (1)
4. The best unit to measure the distance between Delhi and Chennai is _____. (1)
5. Write the successor of 26,739. (1)
6. The sum of four angles of a rectangle is equal to _____ degrees. (1)
7. To which period does ten thousands belong? (1)
8. Find the perimeter of a square whose length of each side is 8 cm. (1)

SECTION - B

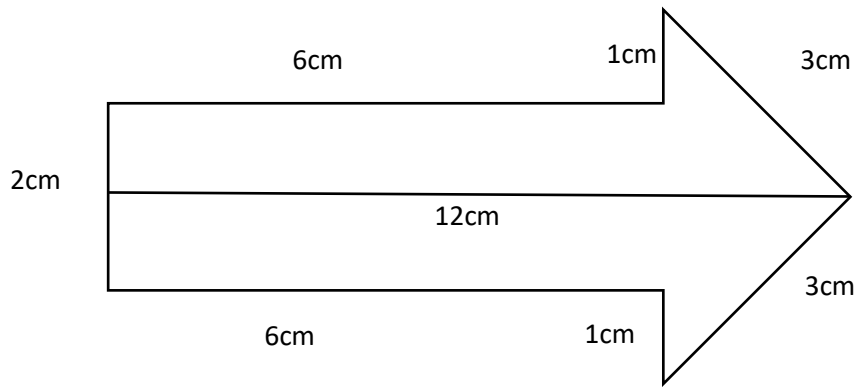
9. What is the sum of the place values of two sixes in 63,065? (2)
10. If $6,542 \div 1,000$, then quotient = _____ and remainder = _____. (2)
11. Convert 25 m 44 cm into centimetres. (2)
12. Rewrite the numeral 78,256 by interchanging the digits of the tens and thousands place. Also find the difference between the numbers thus formed. (2)
13. Construct a right angle and name the angle whose arms are \overrightarrow{PQ} and \overrightarrow{PR} . (2)
14. Perimeter of a triangle is 18 cm. If length of one side is 7 cm, what will be the sum of other two sides? (2)

SECTION - C

15. Form the greatest and the smallest 5-digit number using the digits 9,2,7,0,8 only once. Write the digit whose place is same in both the numbers thus formed. (3)
16. What must be subtracted from 6,36,985 to get 2,76,582? (3)
17. Draw and write the names of three things that are sold by measuring length. (3)
18. Draw a line segment AB of length 7 cm. At 'A' draw an angle of measure 75° . (3)

19. Find the perimeter of the given figure:

(3)



SECTION - D

20. In a stadium, on Tuesday 28,917 people watched the cricket test match. On Wednesday 26,625 people watched the match. On Thursday the attendance was 31,897. What was the total attendance for these three days? (4)

21. Rajat saves ₹359 every month. How much money can he save in 4 years? (4)

22. Divide 56,031 by 53 and check your answer. (4)

23. How much lace does Mrs. Meena need to stitch 3 pillow covers, if the length and breadth of each pillow cover is 45 cm and 30 cm respectively? (4)

24. A box contains 276 apples. How many apples can be packed in 175 such boxes? (4)

SECTION - E

25. By how much 7,97,305 is greater than the sum of 5,29,257 and 32,573? (5)

26. Cost of one pencil box is ₹250. Find the cost of 3 dozen of such pencil boxes. (5)

27. A train had 19 compartments. If there were 456 passengers in the train and each compartment had an equal number of passengers, find the number of passengers in each compartment. (5)

28. A village is at a distance of 285 km 800 m on one side of Delhi and another village is 476 km 700 m on the opposite side. Find the total distance between the two villages if all of them are in a line. Also convert the total distance into metres. (5)

29. A rectangular garden has a length of 15 m. Its breadth is 5 m less than the length. (5)

(i) Find the perimeter of the garden.

(ii) If the cost of fencing is ₹50 per m, how much will it cost to put a fence around the garden?

D.A.V. INSTITUTIONS, WEST BENGAL ZONE
PERIODIC TEST-2/ HALF YEARLY EXAMINATION
SESSION: 2024-2025

Class: IV

Subject: General Sciences

Maximum Marks: 80

Time: 2 Hours 30 Minutes

General Instructions:

- The question paper consists of 8 questions.
- All the questions are compulsory.

1. Choose the correct answer from the given options:

(1×10=10)

a) The organ where absorption of digested food occur is-



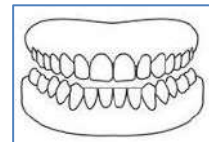
i)



ii)



iii)



iv)

b) The hardest substance in human body is-

i) nail

ii) tongue

iii) enamel

iv) brain

c) Jasmine: Perfume :: Clove: ____.

i) Decoration

ii) Medicinal oil

iii) Cosmetics

iv) Colours

d) I am Indian gooseberry, people also call me-

i) amla

ii) strawberry

iii) litchi

iv) jamun

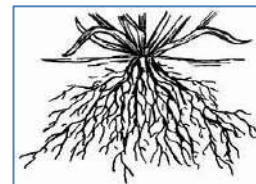
e) The type of root system shown in the given picture is present in-

i) mango

ii) grass

iii) peepal

iv) banyan



f) The special roots (prop roots) of banyan tree help to-

i) give extra support

ii) bloom flowers

iii) make food for plant

iv) all of the above

g) Which among the following is the free-floating plant?

i) Water hyacinth

ii) Hydrilla

iii) Lotus

iv) Coconut


h) Name the habitat of the tree shown in the given picture.

i) Plains

ii) Deserts

iii) Hilly areas

iv) Hot & wet region



- i) **Statement 1:** To clean the feathers and set them right is known as preening.

Statement 2: Birds use their beak only for eating their food.

- i) Statement 1 is correct; Statement 2 is incorrect.
- ii) Statement 1 is incorrect; Statement 2 is correct.
- iii) Both the statements are correct.
- iv) Both the statements are incorrect.

- j) _____ can walk in shallow water or mud.
- | | |
|--------------------|---------------------|
| i) Wading bird | ii) Swimming bird |
| iii) Perching bird | iv) Scratching bird |

2. Fill in the blanks with appropriate words:

(1×10=10)

- Flowers like chrysanthemum, dahlia, rose are commonly seen in _____ season.
- Leaf has _____ in it to give it the green colour.
- A person who studies about birds is called an _____.
- Banana plant has _____ roots.
- _____ are undesirable plants which grow along with the cultivated plants.
- The stem of lotus is commonly known as _____.
- A swallow has _____ beak.
- The largest gland of our body is _____.
- We eat fruits because they give _____ to our body.
- There are _____ premolars in all.

3. Match column A with column B:

(1×6=6)

A	B
a) Permanent teeth	i) Root
b) Soil conservation	ii) Eagle
c) Tap roots	iii) Thirty-two
d) Piercing & tearing beaks	iv) Smallest flower
e) Rubber tree	v) Rose plant
f) Watermeal	vi) Evergreen trees

4. Read the passage and answer the questions:

(4)


Neetu visited an aviary with her father. Neetu saw different types of birds there. She noticed different types of birds have different types of feet and claws. Her father told her that different feet and claws of birds are shaped to suit their perching and food habits. Claws can also be used for climbing, protecting, holding food, scratching and swimming.

- a) Give an example of perching bird.
- b) What type of feet helps a penguin to swim in water?
- c) Name a bird which scratches the ground to find its food.
- d) Name one bird whose two toes are pointing upward and two toes are pointing downward.

5. Do as directed:

(2×6=12)

- a)
 - i) Identify the plant in the picture given and mention its habitat.
 - ii) Write a feature of this plant that enables it to adapt to its habitat.
- b) “Root performs two primary functions” – Enlist them.
- c) Give examples for the following:
 - i. Fruits that can be used as vegetables: _____, _____
 - ii. Flowers that are used as vegetables: _____, _____
- d)
 - i. Unscramble the following jumble word: AMNOG
 - ii. Write two preparations made by using it.
- e) Complete the table:




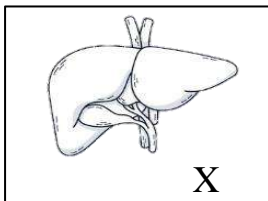
Name of the teeth	Function
i. Canines	
ii. Incisors	

- f) Write two uses of beak of a bird.

6. Answer the following questions in brief:

(3×4=12)

- a) Observe the pictures given below and answer the following questions:



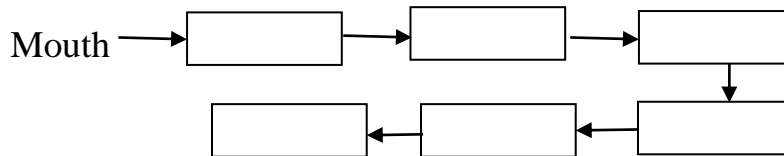
- i) Identify and name the pictures X and Y given above.
- ii) Write one difference between them.

- b) Define breathing root. Give an example.
- c) Name two birds of prey. Why are they called so?
- d) i) What do you understand by seasonal flowers?
ii) Name the largest flower in the world.

7. Answer the following:


(4×4=16)

- a) i) Complete the journey of food through digestive system.

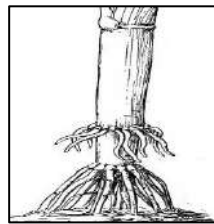


- ii) How many pairs of salivary glands are present in our mouth?
Name the fluid which is secreted by our salivary glands.

- b) i) Mention two features of flowers.
ii) Differentiate litchi and orange on the basis of season and seeds.
- c) Observe the pictures given below and answer the following questions:



A



B

- i) Identify the special type of roots shown in picture A and B.
- ii) Write the special functions performed by these two roots.
- d) What is habitat? Write any three features of plants that grow in hilly region.

- 8.a) i) Draw and name a fixed aquatic plant.

(5×2=10)

- ii) Draw and name a plant growing in plain.
- iii) Write the reason to remove the weeds from the field.

- b) i) Draw the beak of a woodpecker and mention the type of beak.
ii) Draw the feet of a bird that helps them to swim in water and mention the type of claws.
iii) Name the bird that can flap its wings 90 times in one second and mention the type of beak of the bird.

Consider the statements and find out the correct option:

(Q.No.11 to Q.No.15)

- 11. Statement 1:** In Navaratri Goddess Durga is worshipped. **(1)**
Statement 2: Durga Puja is celebrated as Diwali in Northern India.
a) Statement 1 and statement 2 are true.
b) Statement 1 and statement 2 are false.
c) Statement 1 is true and statement 2 is false.
d) Statement 1 is false and statement 2 is true.
- 12. Statement 1:** Ayesha lives in a small township of Begampur in Uttar Pradesh. **(1)**
Statement 2: Neerad lives in a mansion in Bhagalpur.
a) Statement 1 and statement 2 are true.
b) Statement 1 and statement 2 are false.
c) Statement 1 is true and statement 2 is false.
d) Statement 1 is false and statement 2 is true.
- 13. Statement 1:** Lokhan's father is Ali. **(1)**
Statement 2: Lokhan lives in a village Dong.
a) Statement 1 and statement 2 are true.
b) Statement 1 and statement 2 are false.
c) Statement 1 is true and statement 2 is false.
d) Statement 1 is false and statement 2 is true.
- 14. Statement 1:** Biodegradable waste cannot be converted into harmless substances. **(1)**
Statement 2: Paper can be recycled to make newsprint, toilet paper etc.
a) Statement 1 and statement 2 are true.
b) Statement 1 and statement 2 are false.
c) Statement 1 is true and statement 2 is false.
d) Statement 1 is false and statement 2 is true.
- 15. Statement 1:** Many people choose an occupation on the basis of their parent's interest only. **(1)**
Statement 2: In earlier times farming was the main occupation of the people.
a) Statement 1 and statement 2 are true.
b) Statement 1 and statement 2 are false.
c) Statement 1 is true and statement 2 is false.
d) Statement 1 is false and statement 2 is true.

16. Match column A with column B and find out the answers from the options given below:

Column A	Column B	(1)
i) Joint family	A) First school	
ii) Family	B) Greater interaction	
iii) Family craft	C) Live under the same roof	
iv) Nuclear Family	D) Pottery	

- a) i-B, ii- D, iii-A, iv-c
- b) i-D, ii-B, iii-C, iv-A
- c) i-C, ii-A, iii-D, iv-B
- d) i-B, ii-A, iii-D, iv-C


Find the odd one out:(Q. No. 17 & Q. No.18)

17. a) Better jobs b) Educational Opportunities c) Suitable climate (1)
 d) Agriculture
18. a) Gestures b) Sign Language c) Braille d) Mime (1)

Solve the analogical pattern:(Q. No. 19 & Q. No.20)

19. Navratri: _____ :: Durga Puja: _____ (1)
 a) Maharashtra: West Bengal
 b) Gujarat: Tamil Nadu
 c) Kerala: Andhra Pradesh
 d) Gujarat: West Bengal
20. Modern Suspension Bridge: Steel :: Early Suspension Bridge:_____ (1)
 a) Cable
 b) Wood
 c) Rope
 d) Wood and rope
21. Name two types of families. State the importance of family. (1+1)
22. Define 'Sign Language'. Give two examples. (1+1)
23. Write down the names of any four special dishes prepared during the festival of Onam. (2)
24. Mention two important features of an ideal home. (2)
25. Discuss any two benefits of modern building materials. (2)
26. Enlist the four R's that we should adopt in daily life. Write down any one way to reduce waste. (1+1)
27. Give two examples each of Manual and Intellectual Labour. (1+1)
28. State three important points that one should keep in mind while taking a blind person to the market. (3)
29. List three dangers that are posed by open garbage heaps. (3)
30. **The main door must have a 'spy eye' to ensure that the door is not opened to the strangers.** State any three safety measures of an ideal home other than the given. (3)
31. Highlight any three causes behind the increase in the amount of garbage. (3)

32. A farmer's primary occupation is to cultivate the land and grow crops. (2+1+1)
This involves preparing the soil, sowing seeds, irrigating the fields and harvesting the crops. Farmers often work for long hours and rely on favourable weather conditions for a good yield.
(i) Mention the primary activities involved in a farmer's occupation according to the source.
(ii) According to the source, what do farmers rely on for a good yield?
(iii) Mention the kind of labour that Farmer's occupation needs.
33. a) Suppose you have recently visited Gujarat during Navratri. List out any two features that were related to Navratri celebration. (2+3)
b) 'Id-ul-fitr is a day of joy and thanksgiving'. Elaborate.
34. It is necessary to maintain hygiene in the house. In this regard, mention two responsibilities of children. (2+3)
Clean surroundings are also important as a clean house. Give three arguments in favour of the statement.
35. Prepare a flowchart on the process of brickmaking and describe any three points. (2+3)
36. Imagine yourself to be the Mayor of your town. You want to make your town cleaner and healthier by managing waste better. (2+3)
(i) List three things you can do to manage the waste of your town.
(ii) Draw a poster that encourages people in your town to reduce the amount of garbage.
37. (i) Identify the profession and mention the type of the labour. (2+3)
(ii) "Manual work is not inferior to mental work."- by Gandhiji. In light of this opinion, could you share your perspective.



38. On the political map of India label and colour:
A. A state close to a sea.
B. Andhra Pradesh.
C. Karnataka
D. The state where Bandra Sea Link Bridge is located.
E. A state famous for kachchi embroidery.

(1×5=5)

NAME: _____ R. NO.: _____ CLASS: _____ SECTION: _____

